



الوحده الاولى

الدرس الأول

أنماط سكان بلدنا

يمكنك الوصول لجروب الفيس بوك
عن طريق الباركود

بلغ عدد سكان مصر نحو ١٠٢ مليون نسمة وفق تقديرات نوفمبر ٢٠٢١م.

اولا توزيع سكان مصر

Social Studies For Free : يختلف توزيع سكان مصر علي النحو التالي :

1- محافظات يقل عدد سكانها عن مليون نسمة مثل :

(محافظة جنوب سيناء) وهي اقل محافظات الجمهورية من حيث عدد السكان ” بسبب ”

- صعوبة مظاهر سطحها - ندرة موارد المياه فيها

2- محافظات يزيد عدد سكانها عن 8 ملايين نسمة مثل :

(القاهرة – الجيزه)

لتواصل عن طريق واتس او مكالمات 01020034332

تعد القاهرة اكبر المحافظات من حيث عدد السكان لانها عاصمة البلاد

التعداد السكاني

هو عملية حصر شامل للسكان تقوم بها مصر كل عشر سنوات ، لتحديد الخدمات التي يحتاجها

السكان في الحاضر والمستقبل

والمسئول عن اجراء التعداد السكاني هو (الجهاز المركزي للتعبئه العامة والاحصاء)

ملحوظه :

اخر تعداد سكاني قامت به مصر عام 2017م وبلغ عدد السكان نحو (94,8) مليون نسمة



ثانيا انماط السكان في مصر

تتعد انماط السكان في مصر من حيث (الحضر - الريف - البدو)

1- سكان الحضر

يسكنون المدن ويعملون في الانشطة الصناعية والتجارية السياحية

والتعليمية والصحية والخدمات الاخرى



عدد السكان : 43,4 من سكان مصر عام 2017

المحافظات : اربع محافظات وهي (القاهرة - الاسكندرية

- السويس - بور سعيد)

” بسبب ”

الخصائص التعليمية : تنخفض نسبة الامية بين سكان الحضر

الامية : هي عدم قدرة الانسان علي القراءة والكتابة

1- انتشار المؤسسات التعليمية

2- ارتفاع مستوى المعيشة

الهجرة من الريف الي المدن :

تؤدي الي : 1- زيادة الضغط علي الخدمات في المدن 2- ظهور العشوائيات

لذلك تقوم الدولة حاليا بتنفيذ مشروع لتطوير العشوائيات



2- سكان الريف

يسكنون القرى ويعملون في الزراعة وتربية الحيوانات

عدد السكان : 57,6 من سكان مصر عام 2017

الخصائص التعليمية : ترتفع نسبة الامية بين سكان الريف مقارنة بسكان الحضر

الخصائص الاجتماعية : يزيد عدد افراد الاسرة في الريف عن الحضر ” بسبب ”

1- كثرة الانجاب 2- الزواج المبكر



لذلك تقوم الدولة بتوعية الشباب بـ : 1- اهمية تنظيم الاسرة 2- تقليل الانجاب

الخصائص الاقتصادية : يعاني سكان الريف من

1- انخفاض الدخل 2- انخفاض مستوى المعيشة ” ويرجع ذلك لاسباب وهي ”



- قلة الخدمات - نقص فرص العمل

لذلك تسعى الدولة لتنمية الريف مثل مبادرة حياة كريمة

3- سكان البدو

يعيشون في الصحاري المصرية ويمارسون حرفة الرعي ، وهم نسبة ضئيلة جدا من السكان

- جهود الدولة لتحسين اوضاعهم ؟

تعمل الحكومة علي استقرارهم وتحسين مستوى معيشتهم من خلال :



1- بناء المساكن

2- توفير فرص العمل لهم في مجال الزراعة والتعدين

- ما النتائج المترتبة علي تنوع السكان في مصر

ساعد علي تحقيق :

1- التكامل بين السكان

2- التبادل في المنتجات

3- التنمية في جميع المجالات الاقتصادية

لتواصل عن طريق واتس او مكالمات 01020034332

لتواصل عن طريق واتس او مكالمات 01020034332

المشروع القومي لتطوير الريف المصري (٢٠١٤ - ٢٠٣٠م)

1- يأتي المشروع القومي لتطوير قري الريف المصري خلال مبادرة حياة كريمة ”بم تفسر”

لتحقيق التنمية المستدامة والشاملة ،

2- يستهدف المشروع تحسين مستوى الخدمات

كالتعليم والصحة والبنية الأساسية كالصرف الصحي والطرق ،

3- تحسين مستوى الدخل ومستوي معيشة سكان الريف .



تنظيم الأسرة

هـ يعني تنظيم الأسرة تقليل عدد الأطفال في الأسرة الواحدة ” وهذا يساعد علي ”

1- تربية الطفل وتعليمه بشكل جيد .

2- يحافظ على صحة المرأة ويقلل وفيات الاطفال الرضع .

هـ بينما يؤدي عدم تنظيم الأسرة الي زيادة عدد السكان مقارنة بالموارد المتاحة ،

وهذا مما يؤثر سلباً على التنمية .

هـ تعمل الدولة علي تنفيذ المشروع القومي لتنمية الاسرة المصرية صحياً واجتماعياً

ويتمثل هدف هذا المشروع في ضبط الزيادة السكانية وتنظيم الأسرة من اجل الارتقاء بجودة

حياة المواطن ، وبصفة خاصة حياة المرأة والطفل

Social Studies
For Free

MR: AHMED SABRY

01020034332 لتواصل عن طريق واتس او مكالمات

01020034332 لتواصل عن طريق واتس او مكالمات



تمارين علي الدرس الاول

السؤال الاول : اكمل العبارات

- 1- يزيد عدد سكان مصر بسبب ارتفاع
- 2- يقل عدد السكان عن مليون نسمة في محافظة
- 3- من المحافظات التي يزيد عدد سكانها علي 8 ملايين نسمة محافظة و
- 4- عاصمة مصر
- 5- يعيش البدوي في المصرية ويعملون في حرفه
- 6- تظهر العشوائيات نتيجة الهجرة من الي
- 7- تقوم مصر بعمل التعداد السكاني مرة كل سنة

السؤال الثاني : صح او خطأ

- 1- يساعد تنوع سكان مصر في تحقيق التكامل بين السكان ()
- 2- تقوم مصر بعمل تعداد سكاني مرة كل خمس سنوات ()
- 3- اكبر نسبة من سكان مصر توجد في القري MR ()
- 4- المسئول عن اجراء التعداد السكاني لمصر وزراء الصحة ()
- 5- ترتفع نسبة الامية بين سكان الريف مقارنة بسكان الحضر ()

السؤال الثالث : بم تفسر؟

1- زياده عدد سكان مصر مع مرور الوقت 01020034332

لتواصل عن طريق واتس او مكالمة 01020034332

2- محافظة القاهرة اكبر محافظات مصر من حيث عدد السكان

3- محافظة جنوب سيناء اقل محافظات مصر من حيث عدد السكان

4- قيام الدولة بعمل التعداد السكاني

5- انخفاض نسبة الامية في الحضر



6- ظهور العشوائيات في الدن

7- قيام الدولة باطلاق مبادرة حياة كريمة

السؤال الرابع : ايهما تفضل ؟ ولماذا ؟

- ان تعيش مع :

3- البدو

2- سكان الريف

1- سكان الحضر

السؤال الخامس : قارن بين سكان الحضر والريف من حيث :

1- اهم الحرف التي يمارسها السكان

2- نسبة الامية في كل منهما

MR: AHMED SABRY

01020034332 لتواصل عن طريق واتس او مكالمات

01020034332 لتواصل عن طريق واتس او مكالمات



الدرس الثاني

نماذج من التراث المصري

(واحة سيوة - النوبة - مدن القناة - صعيد مصر)

1- واحة سيوة

· يتميز سكان واحة سيوة بتراث ثقافي مرتبط بالبيئة التي يعيشون فيها.

احتفالات الواحة:

يحتفل السكان في منتصف شهر اكتوبر من كل عام بعيد حصاد التمور والزيتون ،

وهما المورد الاساسي لأقتصاد الواحة .

مظاهر الاحتفال:

١- يرتدي السكان الملابس المحلية.

٢- يرددون الاغاني التراثية .

٣- يقيمون موائد الطعام لكل سكان الواحة.

· يجذب هذا الاحتفال الكثير من السياح للاستمتاع به ؛ لذلك اطلقوا عليه اسم (عيد السياحة)

2- النوبة

لتواصل عن طريق واتس او مكالمات

01020034332

لتواصل عن طريق واتس او مكالمات

يمثل التراث النوبي جزءاً أصيلاً من مكونات الهوية المصرية ، وامتداداً للحضارة المصرية القديمة

احتفالات النوبة :

يحتفل سكان النوبة يوم ٧ يوليو من كل عام باليوم العالمي للنوبة لإحياء التراث والحضارة النوبية .

مظاهر الاحتفال :

١- يرتدي السكان الملابس المحلية.

٢- يرددون الاغاني التراثية النوبية .





لغة اهل النوبة :

ينفرد اهل النوبة بالتحدث بلغة النوبية التي يحرص السكان علي الحفاظ عليها ،

وتناقلها عبر الاجيال .

متحف النوبة :

أنشأت منظمة اليونسكو متحف النوبة في اسوان عام ١٩٩٧م ؛

لعرض التاريخ والحضارة النوبية العريقة

3- مدن القناة :

(السويس/الإسماعيلية/ بورسعيد)

يشتهر سكان مدن القناة بالآغاني المرتبطة بآلة السمسمية ،
ويؤدون رقصة شعبية تعرف باسم (البمبوتية)

4- صعيد مصر

MR: AHMED SABRY

متحف السيرة الهلالية :

يشتهر الصعيد بإنشاد السيرة الهلالية ، والتي تقدم علي لسان (الراوي)
وهو يعزف علي آلة الربابة ،

وحفاظاً علي هذا التراث تم إنشاء متحف (السيرة الهلالية)

في محافظة قنا عام ٢٠١٥م .

فن التحطيب :

ه هناك نوع اخر من الفنون الشعبية التراثية بالصعيد وهو (فن التحطيب)

الذي نشأ في مصر القديمة

ه يوجد علي حائط معبد الكرنك في محافظة الاقصر لوحة

مرسوم عليها صورة الاله حورس وهو يعلم الملك امنحتب الثالث فن التحطيب


- لا تزال هذه اللعبة تمثل احدي وسائل الترفية في صعيد مصر





- تم إدراج فن التحطيب كفن تراثي عريق علي قائمة التراث العالمي لليونسكو منذ 2016م

5 - تراث بدو سيناء



هـ يمتلك بدو سيناء تراثاً ثقافياً متنوعاً يرتبط بقيمهم وتقاليدهم التي تعد جزءاً من هويتهم المصرية ،

الصفات

1- اكرام الضيف ،

2- تقاليد الاحتفال بالمناسبات الاجتماعية مثل الاحتفال بعودة المسافر والزواج والمواليد وغيرها

، حيث يرتدي السكان في هذه الاحتفالات الزي التقليدي ويقومون بحفلات السامر التي تتضمن

الرقص والغناء ،

3- تنظم سباقات الهجن (الإبل) وهي رياضة تراثية تشتهر بها سيناء

- وتسهم في تنشيط السياحة

- حيث يحضرها العديد من الوفود العربية للمشاركة في السباق .

تنوع اللهجات المصرية

- عند استماعك الي أشخاص من بيئات مصر المختلفة ، ستلاحظ اختلافاً بين المحافظات الوجهين

البحري والقبلي في نطق بعض الكلمات فيها بينهم ،

1- قبائل بدو سيناء :

لهم لهجات تميل إلى اللغة العربية الفصحى .

2- واحة سيوة :

لها لهجة خاصة بسكانها مشتقة من اللغة الأمازيغية المنتشرة في بلاد المغرب العربي .

3- اهل النوبة واللغة النوبية :



وهي اقرب اللغات الي لغة المصريين القدماء ، وقد لعبت دوراً مهماً في انتصار الجيش المصري في حرب اكتوبر ١٩٧٣ م ، حيث استخدمها الجيش كشفرة للتواصل بين قياداته والفرق العسكرية المصرية في سيناء .

تمارين علي الدرس الثاني

أكمل العبارات التالية بكلمات مناسبة :

- ١- يحتفل سكان..... بعيد عصاد التمور والزيتون في منتصف شهر أكتوبر من كل عام .
- ٢- يعد تراث.....امتدادا الحضارة المصرية القديمة.
- ٣- من أشهر الآلات الموسيقية المستخدمة في مدن القناة.....
- ٤- يشتهر سكان مدينة بورسعيد برقصة.....
- ٥- يشتهر سكان.....بانشاد السيرة الهلالية على أله.....
- ٦- أنشأت الدولة متحف السيرة الهلالية في محافظة.....
- ٧- تم ادراج فن.....على قائمة التراث العالمي اليونسكو.
- ٨- من أشهر الفنون الشعبية مي محافظتي.....
- ٩- انشأت منظمة.....متحف النوبة للحفاظ على الحضارة النوبية.
- ١٠- تؤدي سباقات..... إلى تنشيط السياحة في سيناء.

اكتب كلمة (صواب) أمام العبارة الصحيحة، وكلمة (خطأ) أمام العبارة غير الصحيحة:

- ١ - يتشابه أهل سيناء مع أهل واحة سيوة في اللهجة.
- ٢- تنشط السياحة في واحة سيوة في شهر أكتوبر.
- ٣- يحتفل النوبيون باليوم العالمي للنوبة مي شهر يوليو من كل عام.
- ٤- يرجع فن التحطيب إلى المصريين القدماء.
- ٥- تساهم منظمة اليونسكو في الحفاظ على التراث المصري والعالمي.
- ٦- اعتاد سكان محافظة الإسماعيلية على إنشاد السيرة الهلالية على أصوات الربابة.
- ٧ - ساهمت اللغة النوبية في انتصار الجيش المصري في حرب اكتوبر ١٩٧٣ م.



- ٨- الأكلات الشعبية جزء من التراث الثقافي والهوية الوطنية المصرية.
٩- يساعد تنوع التراث الثقافي المصري على زيادة الدخل القومي.

اختر الإجابة الصحيحة مما بين القوسين؟

١- من المحافظات التي ينتشر فيها الفن الموجود في الصورة.....

(جنوب سيناء - الأقصر - القاهرة - الإسكندرية)

٢- عيد السياحة في واحة سيوة يوافق عيد.....

(زراعة التمور والزيتون - حصاد التمور والزيتون - الفطر المبارك - الأضحي المبارك)

٣- من المحافظات التي تربط معظم أغانيها بأله السمسسية.....

(قنا - بورسعيد - الإسكندرية - القاهرة)

٤- يشتهر سكان..... بإمتداد السيرة الهلالية على الرابية.

(مدن القناة - الوجه البحري - الوجه القبلي - شبه جزيرة سيناء)

٥- أي من المحافظات التالية تشتهر برائعة البمبوتية.....

(كفر الشيخ - الإسكندرية - سيوة - بورسعيد)

٦- تنتشر سباقات الهجن في.....

(سيناء - صعيد مصر - مدن القناة - النوبة)

٧- نقش المصريون القدماء فن التحطيب على جدران معبد

(الكرنك - حتشبسوت - الأقصر - دندرة)



اختبار علي ما سبق

أكمل العبارات الآتية بما يناسبها من كلمات؛

١- تعيين المحافظ من مهام.....

٢- الجهة المسؤولة عن وضع القوانين هو مجلس.....

٣- عملية الحصر الشامل لسكان مصر كل عشر سنوات تسمى.....

اكتب كلمة (صواب) أمام العبارة الصحيحة، وكلمة (خطأ) أمام العبارة غير الصحيحة؛

١- تميل لهجة أهلنا في شبه جزيرة سيناء إلى اللغة العربية الفصحى.

٢- تعد المحاكم جزءاً من السلطة التشريعية في مصر.

٣- يجوز لسكان محافظة دمياط أن يرشحوا أنفسهم لانتخابات المجالس المحلية بأسوان.

اختر الإجابة الصحيحة مما بين القوسين:

١- أشهر الرياضات التراثية في سيناء

(رياضة المبارزة - سباقات المراثون - سباقات الهجن - سباقات الخيول)

MR: AHMED SABRY

٢- يقابل منصب حاكم الإقليم قديماً منصب..... حالياً

(الوزير - رئيس الوزراء - المحافظ - رئيس الجمهورية)

٣- تعد البطالة إحدى نتائج مشكلة

(الأمية - الخرافات - الازدحام - التلوث)

لتواصل عن طريق واتس او مكالمات 01020034332

ع أجب عما يلي؛

١ - وضح بأسلوبك عناصر الحكم في مصر القديمة.

٢- حدد في نقاط أسباب انتشار الأمية في محافظتك.

٣- لماذا يعد مشروع تنظيم الأسرة من المشروعات المفيدة لسكان الريف المصري؟



Social Studies for free

استخدم الباركود للوصول لجروب الفيس بوك



دراسات الصف الرابع الابتدائي ترم ثاني

Social Studies For Free
MR: AHMED SABRY

01020034332 لتواصل عن طريق واتس او مكالمات

01020034332 لتواصل عن طريق واتس او مكالمات

01020034332



الدرس الثالث

نماذج المشكلات الاجتماعية في بلدنا

مشكلة الأمية

ما المقصود بالأمية الهجائية :

تعني عدم قدرة الفرد علي القراءة او الكتابة.

ه وتعد مشكلة الأمية مشكلة عالمية ،

ه لذا اعتبرت منظمة اليونسكو اليوم الثامن من شهر سبتمبر من كل عام

(اليوم الدولي لحو الأمية) بهدف تنمية الوعي الدولي بأهمية محو الأمية .

الأمية في مصر :

1- لقد بلغت نسبة الأمية وفقاً لتعداد عام ٢٠١٧م نحو ٢٥,٨% من جملة السكان البالغين عشر سنوات وأكثر.

هناك فرق بين الامية في الريف والامية في الحضر؟

- تزداد نسبة الأمية في الريف وتقل في الحضر.

- نسبة الأمية في الريف نحو ٣٢,٢% من جملة سكان الريف

- نسبة الأمية في الحضر نحو ١٧,٧% من جملة سكان الحضر .

- وتعد محافظة المنيا اعلي محافظات مصر من حيث الأمية تليها محافظة بني سويف .

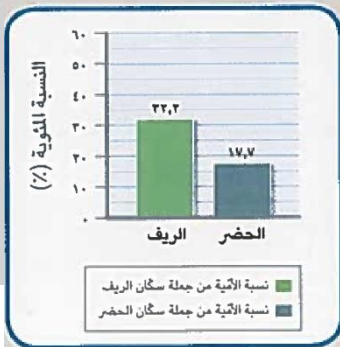
- بينما تعد محافظات البحر الاحمر وبورسعيد والوادي الجديد اقل المحافظات من حيث الأمية

- تزداد نسبة الأمية بين الاناث اكثر من الذكور .

- بم تفسر انتشار الأمية في مصر إلي

1- الزيادة السكانية ، 2- عدم التحاق جميع الأطفال بالمدارس ،

3- تسرب بعض التلاميذ من المدارس نتيجة ضعف المستوى الاقتصادي للأسرة .





خطورة مشكلة الأمية علي الفرد والمجتمع :

ه تؤدي الأمية الي انتشار الجهل و الخرافات بين الناس ،

- وتقلل من فرص العمل ،

1- انتشار البطالة والفقير ،

2- تؤثر سلبياً في برامج التنمية المستدامة في المجتمعات

3- تؤدي إلى تدني اقتصادها القومي .



دور الدولة في مواجهه الامية

ه وتبذل مصر مصر جهوداً كبيرة للقضاء على الأمية الهجائية وأهمها :

1- انشاء الهيئة العامة لتعليم الكبار ومحو عام ١٩٩٢ م .

2- انشاء العديد من المدارس للاستيعاب الكامل للاطفال ومواجهة التسرب .

3- إطلاق العديد من المبادرات المجتمعية للمشاركة في تنفيذ برامج محو الأمية .

4- رفع الوعي المجتمعي بأهمية التعليم من خلال وسائل الإعلام المختلفة .

التعليم عند المصريين القدماء

ه اهتم المصري القديم بالتعليم حيث كانت تسعى الاسر المصريه الي الوصول بالابناء

لتأهل عن طريق واتس او مكالمات 01020034332

الي درجه مرموقه من التعليم للعمل في مكانه مميزه في المجتمع

- اثر التعليم علي حياه المصري القديم

1- اخترع اللغة الهيروغليفية وكانت في شكل صور ورسوم


2- واستخدموها في تسجيل الاحداث والاخبار واهم الانجازات

3- ساعدت هذه اللغة في معرفه الحضاره المصريه القديمه

4- استخدم ورق البردي للكتابه عليه

5- اهتم بانشاء المدارس

6- وتعد جامعه أون اول جامعه في التاريخ حيث كان ياتي اليها الطلاب من جميع انحاء العالم





تمارين علي الدس الثالث

أكمل العبارات التالية بكلمات مناسبة:

- ١- ترتفع نسبة البطالة بين سكان عن الريف
- ٢- ترتفع نسبة الأمية بين الإناث عن
- ٣- تعد مصر صاحبة أول في التاريخ.
- ٤- ترتبط الأمية بمشكلكي البطالة و.....
- ٥- اخترع المصريون القدماء الكتابة.....

- ٦ - الأمية المعلوماتية هي عدم القدرة على تشغيل.....والوصول الي.....
- ٧ - أعلى محافظات مصر في الأمية هي محافظة..... واقل محافظة هي.....

اكتب كلمة (صواب) أمام العبارة الصحيحة، وكلمة (خطأ) أمام العبارة غير الصحيحة.

- ١- تتصدر الزيادة السكانية أسباب انتشار الأمية في مصر.
- ٢- ينتشر الجهل والخرافات نتيجة لعدم الاهتمام بالتعليم.
- ٣- ترتفع نسبة البطالة بين الإناث عن الذكور.
- ٤- تزداد مشكلكتان الأمية والبطالة في الريف عن الحضر
- ٥- يأتي إنشاء المدارس كأحد جهود الدولة في القضاء على الأمية في مصر.
- ٦ - الأمية المعلوماتية تعني عدم قدرة الفرد على تشغيل الأجهزة التكنولوجية.
- ٧ - تعتبر جامعة أون هي أول جامعة في التاريخ.
- ٨ - تزداد نسبة الأمية بين الذكور عن الأناث وخاصة في الريف

اختر الإجابة الصحيحة من بين القوسين؛

- ١- أكثر المشكلكات الاجتماعية المنتشرة مي مصر هي.....

(العشوائيات - الفقر - الأمية - البطالة)

- ٢- أطلقت اليونسكو يوم ٨ سبتمبر احتفال باليوم الدولي لـ

(دور المرأة - الطفولة - محو الأمية - السلام)



٣ - اخترع المصريون القدماء الكتابة

(الهيروغليفية - المسماية - العربية - الباطية)

٤- استخدم المصريون القدماء..... في الكتابة.

(الصوف -البردي- الجلد - القماش)

٥- تعد جامعة..... اول جامعة في التاريخ.

(بوتو - منف - أون - نخب)

٦- نجد أكبر نسبة للسكان المتعلمين في مصر في محافظة

(بورسعيد - المنيا - بني سويف - البحر الأحمر)

٧- تأتي محافظة..... أعلى محافظات مصر من حيث نسبة الأمية.

(القاهرة - الإسكندرية - المنيا - البحر الأحمر)

٨- تسعى مصر لتحقيق الحياة الكريمة لكل مصري عن طريق

(تشيد المدارس - بناء السجون - نشر الجهل - نشر الخرافات)

٩- تؤثر الأمية على المجتمع المصري فتؤدي إلى.

(توفير فرص العمل - تقدم الدولة - رفع الوعي - انتشار الخرافات)

بما تفسر؟

١ - بناء العديد من المدارس سنويا في أنحاء الجمهورية.

٢ - أهمية الكتابة عند المصريين القدماء.

٣ - انتشار الأمية في مصر.

٤ - تؤثر الأمية على الفرد والمجتمع تأثيرا سلبيا.

٥ - ضرورة محو الأمية المعلوماتية (التكنولوجية).

.....

.....

.....

.....



الدرس الرابع

نظام الحكم في بلدنا

ه الحكومة المصرية من تدير حكم البلد وهي تتمثل في :

(**السلطة التنفيذية**) وهم رئيس مجلس الوزراء والوزراء وهم مسؤولون

مع الرئيس الجمهورية في ادره شون البلاد

رئيس الجمهورية



يتولي الرئاسة عن طريق التصويت له في انتخابات عامة ،

MR: AHMED SABRY

وهو مسئول عن امن الوطن ورعاية مصالح الشعب ،

كما يمثل مصر محلياً ودولياً .

الحكومة

رئيس الدولة تعاونه الحكومة والتي تكون من رئيس مجلس الوزراء و الوزراء ،

وتقوم الحكومة بمهام عديدة ، منها

1- الاشتراك مع رئيس الجمهورية في وضع الخطة العامة للدولة

(الخطوات اللازمة للوصول إلى هدف مستقبلي) ،

2- الإشراف على تنفيذها ،

3- اعداد الموازنة العامة للدولة (تحديد الأموال اللازمة لتنفيذ الخطة العامة) ،

4- اصدار القرارات وفقاً للقانون .

- **وضح الفرق بين مهام رئيس الوزراء و الوزراء**

1- **رئيس مجلس الوزراء** : يرأس الحكومة ويشرف على اعمالها .





2- الوزير : مسئول عن إدارة مجال واحد من مجالات الحياة اليومية في مصر .

- **علي سبيل المثال :** وزير التربية والتعليم مسئول عن توفير تعليم متميز للمواطنين ،
ووزير الصحة مسئول عن توفير رعاية صحية جيدة للمصريين .

مجلس النواب

● رئيس الدولة والحكومة يعملان وفق قوانين ملزمة من مجلس النواب



● هو الذي يسن القوانين في الدولة ،

● يمثل (السلطة التشريعية) ،

● يتكون من ٥٩٦ عضواً يمثلون فئات المجتمع المصري .

● يتم انتخاب ٩٥٪ من النواب بينما يختار الرئيس ٥٪ منهم .



القضاء

● هي سلطة مستقلة تتولاها المحاكم المتنوعة

● وتصدر الاحكام في ضوء القانون ليسود العدل .

نظام الحكم في مصر القديمة

● تعد مصر من أقدم الدول التي وضعت نظاما للحكم،

● حيث أسس المصريون القدماء دولة قوية لها نظام حكم ثابت

● حقق القوة والرخاء لمصر عبر العصور،

● ساعد على بناء الحضارة المصرية القديمة التي ما زالت تبهر العالم بتميزها حتى الآن،

● كان على رأس نظام الحكم الفرعون (حاكم البلاد)

● كانت مهمته إدارة شئون البلاد وعقد المعاهدات وإصدار القوانين.

● كان يعاون الحاكم في إدارة شئون البلاد الوزير (رئيس الإدارة المركزية)،

● كان يعاون الوزير عدد من كبار الموظفين هم رؤساء الإدارات المركزية (الوزارات حاليا)



مشروع اقامة قانون

” بالترتيب ”

١- يكتب رئيس الجمهورية أو مجلس الوزراء أو أحد أعضاء مجلس النواب مشروع القانون الجديد

(وثيقة رسمية تقترح تغيير قانون أو وضع قانون جديد).

٢- يعرضه رئيس مجلس النواب على أعضاء المجلس.

٣- تقوم لجنة متخصصة بدراسة مشروع القانون.

٤- يجتمع النواب مع اللجنة المتخصصة للمناقشة.

٥- إذا تمت الموافقة على مشروع القانون، يتم إرساله إلى اللجنة التشريعية في المجلس.

٦- يتم أخذ الأصوات

٧- إذا وافق ثلثا أعضاء مجلس النواب على مشروع القانون، يتم إرساله إلى الرئيس.

٨- إذا تمت الموافقة على مشروع القانون من رئيس الجمهورية

01020034332 تواصل عن طريق واتس او مكالمات

01020034332 لتواصل من اية هاتف او معلومات

ينشر في الجرائد الرسمية للعمل به .



تمارين الدرس الرابع

أكمل العبارات التالية بما يناسبها من كلمات:

- ١- الإشراف علي تنفيذ الخطة العامة للدولة من مهام.....
- ٢- يتولى رئاسة الحكومة ويقابل منصبه منصب الوزير في مصر قديما هو.....
- ٣- تعتبر السلطة.....سلطه مستقلة
- ٤- الوظيفة الحالية المقابلة لوظيفة الملك قديما هي.....
- ٥- مجلس النواب المسئول عن سن.....
- ٦- المسئول عن إدارة التعليم وتطوير هو وزير.....

اكتب كلمة (صواب) أمام العبارة الصحيحة، وكلمة (خطأ) أم العبارة غير الصحيحة مما يلي:

- ١- عرفت مصر قديما وجود نظام سياسي ثابت وقوي.
- ٢- يتولي رئيس مجلس النواب رئاسة الحكومة.
- ٣- يقابل منصب الملك قديما منصب رئيس الوزراء حاليا.
- ٤- يتولي رئيس الجمهورية رئاسة الحكومة.
- ٥- ساعد وجود نظام سياسي في مصر القديمة على بناء حضارة قوية استمرت آلاف السنين.
- ٦- للتشريع بأي قانون جديد لابد عن موافقة ثلث أعضاء مجلس النواب
- ٧- من مهام الرئيس عبد الفتاح السيسي تمثيل مصر في المؤتمرات دوليا ومحليا.
- ٩- كل أعضاء مجلس النواب يتم انتخابهم.

اختر الإجابة الصحيحة مما بين القوسين:

- ١- المسئول عن مساعدة الملك في إدارة شئون البلاد قديما هو.

(الكاتب - الكاهن - الوزير- رؤساء الإدارات)

- ٢- حاكم البلاد في مصر القديمة كان يطلق عليه

(السلطان- رئيس الجمهورية- الملك - الأمير)



٣- يمثل..... السلطة التشريعية في مصر

(مجلس النواب- المجلس المحلي - المجلس الحسبي - مجلس الشيوخ)

٤- السلطة المستقلة في مصر تمثلها..... المتنوعة

(المحاكم - الوزارات - المستشفيات - المدارس)

صوب ما تحته خط فيما يلي:

١- يتولى (الوزراء) في مصر مهمة تمثيلها في الداخل والخارج.

٢- يتولى (الوزير) رئاسة الحكومة المصرية في العصر الحالي.

٣- يمثل مجلس النواب السلطة (التنفيذية).

٤- تعتبر السلطة (التشريعية) سلطة مستقلة.

٥- يتأشبه منصب (الوزير) في مصر قديماً مع منصب رئيس الجمهورية حالياً.

بم تفسر:

١- كان الملك في مصر القديمة يعين وزيراً له.

MR: AHMED SABRY

٢- أهمية منصب رئيس الوزراء.

01020034332



اتصلنا عبر طريق واتس او مكالمات

01020034332

٣- أهمية وجود السلطة القضائية في الدولة.

٤- كان لرؤساء الإدارات قديماً دوراً مهماً في الدولة.

ماذا يحدث إذا لم؟

١- تعرف مصر القديمة وجود نظام حكم ثابت وقوي.



٢- يتم اقتراح مشاريع قوانين عديدة

دلل علي صحة المبارات التالية:

١- يتشابه متصب الملك في مصر القديمة ورئيس الجمهورية حالياً.

اختبار تراكمي على ما سبق

أكمل العبارات التالية بكلمات مناسبة:

- ١ - تتشابه لهجة سكان سيوة مع اللغة.....
- ٢ - نتيجة ضعف المستوى الاقتصادي لبعض الأسر تنتشر مشكلة.....
- ٣ - تعد محافظة بورسعيد من المحافظات.....

اكتب كلمة (صواب) أمام العبارة الصحيحة، وكلمة (خطأ) أمام العبارة غير الصحيحة:

- ١ - يعمل سكان الحضر بحرفتي الزراعة وتربية الحيوانات.
- ٢ - تم إدراج فن التحطيب على قائمة التراث العالمي لليونسكو.
- ٣ - إنشاء المدارس يمثل أحد جهود الدولة في القضاء على الأمية.

اختر الإجابة الصحيحة مما بين القوسين:

- ١- الحرفة الرئيسية لسكان الصحاري المصرية هي
(الزراعة - الصناعة - الرعي - التجارة)

٢- تنتشر سباقات الهجن في.

(سيناء - القاهرة - الإسكندرية - النوبة)

٣ - تسرب بعض التلاميذ من المدارس يعد من أسباب مشكلة

(البطالة - الأمية - الفقر - الازدحام)

أجب عما يلي:



١- فسر اسباب تنوع التراث الثقافي المصري.

٢- وضح العلاقة بين سكان الريف وظهور العشوائيات.

٣- (اهتم المصري القديم بالتعليم). أيد صحة هذه العبارة.

Social Studies
For Free
MR: AHMED SABRY

01020034332 لتواصل عن طريق واتس او مكالمات
01020034332 لتواصل عن طريق واتس او مكالمات



الدرس الخامس

من يحكم محافظتي؟

المحافظ

ما المقصود بالمحافظ :

● المحافظ هو الشخص المسئول عن إدارة شؤون المحافظة ،

● يمثل السلطة التنفيذية فيها ،

● يتم تعيينه من قبل رئيس الجمهورية ،

مهام المحافظ :

1- يتولى مسؤولية حفظ الأمن والنظام

2- حماية حقوق الإنسان والممتلكات العامة والخاصة

3- متابعة جودة المرافق والخدمات العامة ، كالتيقلم والصحة والكهرباء والمياه النظيفة ،

4- يشرف علي تنفيذ المشروعات التنموية في المحافظة

5- يعمل علي زيادة إنتاج المحافظة في كافة المجالات وتوفير فرص العمل لأبنائها .

المجلس المحلي

لتواصل عن طريق واتس اب : 01020034332
01020034332
لتواصل عن طريق واتس اب : 01020034332

● وهو جهاز تابع للمحافظة يضم مجموعة من الاعضاء الممثلين عن سكان المحافظة ،

● يتم انتخابهم كل اربع سنوات

مهام المجلس المحلي :

1- معاونة المحافظ في إدارة شؤون المحافظة ،

2- متابعة تنفيذ خطط التنمية في المحافظة كمشروعات التخطيط العمراني ،

3- تطوير العشوائيات ،

4- صيانة وتطوير المدارس والمستشفيات والمرافق العامة وغيرها .





دور المواطن في تطوير المحافظة



- 1- يجب علي كل فرد ان يحافظ علي الممتلكات العامة في المحافظة ،
- 2- يشارك في الاعمال التطوعية لخدمة البيئة التي تعيش فيها ،
- 3- الاهتمام بالتعليم واتقان العمل .

حكام الأقاليم في مصر القديمة

ه كانت مصر قديما تنقسم إلى ٤٢ إقليما،

وكان الملك (الفرعون) يعين لكل إقليم حاكما

وكانت مهامه كالتالي :

1- يهتم بشئون الإقليم،

2- يحافظ على أمنه

3- يشرف على تنفيذ المشروعات فيه.

ه يقابل منصب حاكم الإقليم قديما منصب المحافظ حاليا .

Social Studies
For Free

MR: AHMED SABRY



01020034332 لتواصل عن طريق واتس او مكالمات

01020034332 لتواصل عن طريق واتس او مكالمات



تمارين على الدرس الخامس

اكمل العبارات التالية بما يناسبها من كلمات:

- ١- تقل الجرائم في محافظتي بسبب الحفاظ علي.....
- ٢- الاشراف علي تنفيذ الخطط القومية للتنمية من مسؤوليات.....
- ٣- الاشراف علي تنفيذ المشروعات بالاقليم قديما من واجبات.....
- ٤- التطوع لخدمة المحافظة من واجباتك ك.....
- ٥- متابعة تنفيذ خطط التنمية بالمحافظة من واجبات المجلس.....

٦- يمثل المحافظ السلطة..... بالمحافظة

٧- يتابع المحافظ جودة الخدمات العامة مثل..... و.....

٨- يختص المحافظ بمتابعة جودة المرافق مثل..... و.....

٩- عمل معرض توظيفي لتوفير فرص عمل في محافظتي من مهام.....

اكتب كلمه (صواب) أمام العبارة الصحيحة، وكلمة (خطا) أمام العبارة غير الصحيحة.

١- كل مواطن له دور في تحسين محافظته وتطويرها.

٢- متابعة تطوير العشوائيات منطقة السيدة زينب بالقاهرة من مسؤولية المحافظ.

٣- يتم انتخاب المجلس المحلي بالمحافظة كل ست سنوات.

٤- يمكن لسكان محافظة المنيا لترشح للمجلس المحلي بمحافظة القاهرة.

٥- كل محافظ يتابع تنفيذ المشروعات القومية في محافظته.

٦- يتشابه حكام الأقاليم قديما والمحافظون حاليا في بعض المهام المكلفين بها.

٧- يجب أن يكون في المجلس المحلي ممثلون عن الشباب والمرأة.

٨- اهتمامي بمذاكرتي يساعدني في تطوير محافظتي.

٩- يشرف المجلس المحلي على صيانة المدارس والمستشفيات في محافظتي.



اختر الإجابة الصحيحة من بين القوسين:

- ١ - يقابل منصب المحافظ حالياً منصب
(الفرعون - الوزير - حاكم الإقليم - الكاهن)
- ٢ - الحفاظ على الأمن في محافظتي من مهام
(رئيس الجمهورية - المحافظ - القاضي - رئيس الوزراء)
- ٣ - متابعة تنفيذ خطط التنمية في محافظة الجيزة من مهام
(مجلس الوزراء - المجلس المحلي - رئاسة الجمهورية - دار القضاء)
- ٤- انقطعت المياه عن محافظة المنوفية لمدة ثلاثة أيام؛ فالشخص المسئول عن متابعة هذه المشكلة وحلها هو.....
(رئيس الجمهورية - المحافظ - المجلس المحلي - رئيس الوزراء)
- ٥- إنشاء أسواق جديدة بالمحافظة وتشجيع الشباب على العمل بها من مسؤوليات
(رئيس الجمهورية - المجلس المحلي - رئيس الوزراء - المحافظ)
- ٦- صيانة وإصلاح شبكات الصرف الصحي بإحدى مدن محافظة الدقهلية هي من مسؤوليات
(المحافظ - المجلس المحلي - رئيس الجمهورية - رئيس الوزراء)
- ٧- تخصيص مساحة من أرض إحدى المحافظات لاستصلاحها وزراعتها؛ هي من مسؤوليات
(رئيس الجمهورية - المحافظ - المجلس المحلي - رئيس الوزراء)

لتواصل عن طريق واتس او مكالمات 01020034332

صوب ما تحته خط:

- ١ - يقوم (رئيس الوزراء) بتعيين المحافظين.
- ٢- يتابع (المجلس المحلي) جودة الخدمات العامة المقدمة لأبناء المحافظة.
- ٣- الإشراف على تنفيذ المشروعات الخدمية والتنموية في محافظتي من مسؤوليات
(رئيس الجمهورية).
- ٤ - يمثل (رئيس الجمهورية) السلطة التنفيذية داخل المحافظة.



حدد الشخص المسنول عن المهام الآتية من بين القائمة:

(المجلس المحلي- المواطن- حاكم الإقليم قديما)

- ١ - التطوع لتنظيف الشارع الذي أعيش فيه.
- ٢- تطوير العشوائيات في المدينة.
- ٣ - مشاركتي مع الجيران في تشجير الحي.
- ٤ - يختص بالإشراف على تنفيذ المشروعات بالإقليم.
- ٥- يشرف على صيانة المدارس والمستشفيات.

Social Studies For Free
MR: AHMED SABRY

لتواصل عن طريق واتس او مكالمات 01020034332

لتواصل عن طريق واتس او مكالمات 01020034332



الوحدة الثانية

الدرس الأول

تراثنا الوطني

ه خصت منظمة اليونيسكو يوم 18 ابريل من كل عام ليكون يوم التراث العالمي "بم تفسر"
لتوعية كل شعوب العالم بضرورة حماية التراث الطبيعي والثقافي

ما الفرق بين التراث الثقافي والتراث الطبيعي ؟

١- التراث الثقافي :

ه تتمثل في الصناعات والحرف التراثية والعادات وتقاليد الشعوب في الأكل والملبس والفنون الشعبية ويشمل أيضاً الأماكن السياحية ذات القيمة العظيمة
مثل المعابد والأهرامات والمساجد والكنائس الأثرية

٢- التراث الطبيعي :

يتمثل في المواقع الطبيعية الجميلة ذات القيمة العالية التي لم يتدخل الإنسان في صناعتها او التأثير فيها مثل محمية وادي الريان و محمية الغابه المتجره ومحمية راس محمد

المواقع الأثرية في وطننا وأهميتها

١- قلعه صلاح الدين

ه توجد في جزيره فرعون في مدينه طابا في محافظه جنوب سيناء

ه وهي احد القلاع التي تحمل اسم القائد صلاح الدين

ه وقد بُنيت هذه القلعه لحماية الطرق البريه والبحريه بين مصر وجيرانها

ه وتأمين خليج العقبة والبحر الاحمر من الاعداء





2- سور مجري العيون :

توجد في مدين القاهرة وكان من شيدها صلاح الدين الايوبي

لتحمل المياه التي ترفعها السواقي من النيل حتي تصل الي قلعه صلاح الدين بالقاهرة

3- محمية الغابه المتحجره

توجد شرق حي المعادي في محافظه القاهره

يوجد فيها مجموعه من الاشجار المتحجره

تكون علي شكل قطع صخريه ذات مقاطع اسطوانيه

تتجمع بعضها مع بعض علي شكل غابه



4- محمية راس محمد

توجد في جنوب سيناء عند التقاء خليج السويس وخليج العقبة

تتميز بالشواطئ المرجانية والاسماك الملونه

السلاحف البحرية المهددة بالانقراض والاحياء المائية النادره



5- محمية وادي الريان :

تقع في محافظة الفيوم

حيث المناظر الطبيعية المميزه

مثل البحيرات والشلالات والحيوانات مثل الثعالب والغزلان

وتعد مصدر دخل لوجود السياحة بها



- ما المقصود بـ قائمه التراث العالمي :



تساعد معرفه المواطنين بالتراث الطبيعي والثقافي وفي وطنهم وحمايتها والمحافظة عليها


- جهود منظمه اليونيسكو للحفاظ علي التراث العالمي

- 1- تشجع كل دول العالم علي تحديد مواقع التراث الطبيعي والثقافي فيها ثم تختار الاماكن الفريده والمميزه لتكون ضمن قائمتها للتراث العالمي
- 2- تعمق شعور المواطنين بالانتماء الي مجتمعهم وتاريخهم
- 3- تعمل علي تحفيز دول العالم علي اتخاذ الاجراءات اللازمه لحماية المواقع التراثيه والثقافيه والطبيعيه وتطويرها

4- كما تدعم ايضا السياحه في مناطق التراث العالمي التي حددتها في قائمتها

ويساعد كل ذلك علي زياده الدخل القومي للدوله

- 5- تقدم ايضا المساعده الي الدول للمحافظة علي الاماكن التراثيه المهدده بالخطر وتساهم في ترميم بعض المدن القديمه مثل ترميم مدينه صنعاء باليمن



01020034332 لتواصل عن طريق واتس او مكالمات

01020034332 لتواصل عن طريق واتس او مكالمات



تمارين عي الدرس الاول

اكمل العبارات التالية:

- ١- بني المصريين القدماء الكثير من المعابد والاهرمات وهي تعد تراثاً.....
 - ٢- تتمتع محمية رأس محمد بالشواطئ المرجانية والاسماك الملونة
فهي بذلك تعد تراثاً.....
 - ٣- مكان اثري انشيء بغرض تأمين خليج العقبة والبحر الأحمر من الاعداء يسمى.....
 - ٤- من الحيوانات البرية النادرة الموجودة في وادي ريان.....و.....
 - ٥- يحتفل العالم كل عام يوم ١٨ من ابريل باليوم العالمي لـ.....
 - ٦- شيد صلاح الدين..... لتوصيل مياه نهر النيل عبر السواقي الي القلعة
 - ٧- يمكننا مشاهدة الاشجار المتحجرة التي علي شكل قطع صخرية في محمية.....
- اكتب كلمة (صواب) أمام العبارة الصحيحة، وكلمة (خطأ) أمام العبارة غير الصحيحة مما يلي.**

١ - زيارة السائحين لمعبد الأقصر، تعد زيارة لمنطقة تراث طبيعي.

MR: AHMED SABRY

٢ - سور مجرى العيون يعد منطقة تراث طبيعي.

٣ - خصصت منظمة اليونسيف يوماً عالمياً للتراث للتوعية بحماية تراث العالم.

٤ - توجد الأشجار المتحجرة في محمية الصحراء البيضاء.

٥ - تشمل مناطق التراث الثقافي القلاع والمساجد والكنائس والأديرة.

٦- تشير الصورة المقابلة لإحدى مواقع التراث الثقافي.

٧- تضم محمية وادي الريان الكثير من الحيوانات النادرة.

٨ - تعتبر قلعة صلاح الدين في طابا ذات موقع استراتيجي متميز.



اختر الإجابة الصحيحة مما بين القوسين:

١ - إذا أردت القيام برحلة لزيارة إحدى مناطق التراث الطبيعي في جنوب سيناء فإنك ستتوجه إلى محمية.....
(رأس محمد - وادي الريان - وادي الحيتان - الغابة المتحجرة)

٢- توجد محمية الغابة المتحجرة في محافظة.....

(الفيوم - الوادي الجديد - القاهرة - جنوب سيناء)

٣ - شيد صلاح الدين قلعه في جنوب سيناء على جزيرة.....

(شدران - الزمالك - تيران - فرعون)

٤ - كانت مياه النيل تصل إلى قلعة صلاح الدين القاهرة عن طريق.....

(أسور مجرى العيون - ترعة بحر يوسف - ترعة الإسماعلية - القناطر الخيري)

صوب ما تحته خط فيما يلي:

١- يعد مسجد احمد بن طولون من التراث (الطبيعي)

٢ - توجد السلاحف البحرية في محمية (الغابة المتحجرة).

٣- تقع محمية الغابة المتحجرة في محافظة القاهرة وتحديدًا شرق حي (السلام)

٤ - شيد صلاح الدين قلعه بجنوب سيناء على جزيرة (شرم الشيخ)

بم تفسر؟:

01020034332

لتواصل عن طريق واتس او مكالمات

01020034332

لتواصل عن طريق واتس او مكالمات

١ - تشييد سور مجرى العيون قديماً.

٢ - أهمية قلعة صلاح الدين في طابا.

٣ - اهتمام منظمة اليونسكو بالتراث العالمي.



٤ - أهمية إدراج المواقع السياحية والأثرية على قائمة التراث العالمي لليونسكو.

Social Studies For Free
MR: AHMED SABRY

01020034332 لتواصل عن طريق واتس او مكالمات

01020034332 لتواصل عن طريق واتس او مكالمات



الدرس الثاني

الاماكن التراثيه في بلدنا

مواقع مصريه مسجله في قائمه التراث العالمي

يوجد العديد من المواقع التراثيه المسجله علي خريطه التراث العالمي لليونيسكو لها اهميه كبيره ومنها :



١- اثار النوبه من ابو سمبل الي فيله

هضم هذا الموقع الكثير من الاماكن الاثاريه

ه مثل معبد ابو سمبل ومعبد ايزيس في جزيره فيله

ه قد ساهمت منظمه اليونيسكو في انقاذها من الغرق

بعد بناء السد العالي وتم نقلها الي موقعها الحالي

٢- القاهره التاريخيه :

ه تعد مدينه القاهره التاريخيه من اهم واكبر المدن التراثيه في العالم

ه حيث تتميز بتعدد الاثار والمباني التاريخيه

التي تعبر عن تاريخ القاهره الطويل

ه بصفتها عاصمه سياسيه وثقافيه وتجاريه ودينيه عريقه

للتواصل عن طريق واتس او مكالمات 01020034332

للتنقل عن طريق واتس او مكالمات 01020034332

٣- وادي الحيتان :

ه تقع مدينه وادي الحيتان في محافظه الفيوم

ه وتوجد فيها هياكل وعظام حيتان ضخمه وحفريات لأسماك اخري

ه كانت تعيش قبل ٤٠ مليون سنه في تلك المنطقه

ه كان يغطيها البحر قديماً

ه وتوجد فيها كائنات حيه متنوعه كالصقور والثعالب والغزلان





٤- منطقه ابو مينا :



- تقع مدينه ابو مينا في الاسكندريه بجوار مدينه برج العرب
- ويرجع تاريخ المنطقه الي فتره الحكم الروماني لمصر
- وتعد مزاراً دينياً واثرياً

• وتصنف منظمه اليونيسكو هذه المنطقه انها مهدده بخطر تآكل التربه والمباني

٥- دير سانت كاترين والمنطقه المحيطة بها :



- يقع دير سانت كاترين في محافظه جنوب سيناء
- عند سفح جبل سيناء

- حيث تلقي النبي مرسي الوصايا من الله
- ويعد من اقدم الادييره في مصر

معايير اختيار الأماكن علي قائمة التراث العالمي

- تختار اليونيسكو اماكن فريدة ومميزه لتكون ضمن قائمة التراث العالمي ،
- يتم ذلك من خلال عدة معايير وهي :

- 1- ان يضم المكان مناطق طبيعيه فائقة الجمال وظواهر طبيعي لا مثيل لها
- 2- او يعكس مراحل مهمه من التطور عبر العصور ،
- 3- او ان يمثل الأثر نموذجاً للإبداع البشري ،
- 4- او يكون شاهداً علي حضارة عظيمة
- 5- او يعكس نموذجاً بارزاً لتطور الهندسه المعماريه او التكنولوجيا .

01020034332

01020034332

لتواصل عن طريق واتس او مكالمات



طريق الكباش :

هو طريق انشأه المصريون القدماء لإقامة الاحتفالات الكبرى الملكية والدينية

ويبلغ طوله ٢٧٠٠ متر وعرضه اقل من ٧٠ متراً ،

ويربط بين معبد الكرنك شمالاً ومعبد الاقصر جنوباً .

والطريق كله مزين علي الجانبين بتمائيل علي هيئة كباش في وضعية ابو الهول .

وقد تم إعادة افتتاح هذا الطريق في حفل كبير حضرته وفود من دول متعددة وممثلون

لمنظمة اليونسكو ،

وييري كثير من الخبراء في مجال السياحة إن الاقصر اصبحت افضل مكان للسياحة الثقافية

بلا منازع بعد اكمال طريق الكباش .

تؤثر التغيرات المناخية في موقع التراث العالمي .

فقد أشار تقرير اليونسكو عن التراث العالمي والسياحة في ظل التغيرات المناخية

الي ان ٢١ موقعاً طبيعياً وثقافياً علي قائمة التراث العالمي في دول مختلفة ، معرض للخطر

بسبب

1- درجات الحرارة المتزايدة ، 2- ذوبان الجليد ،

3- ارتفاع مسوب المياه 4- الاحوال الجوية القاسية ،

5- والجفاف 7- وحرائق الغابات المتزايدة .

ملحوظة :

- يمكن للدول ان ترشح مواقع تراثيه لقائمه اليونسكو ، فتوضع هذه المواقع في قائمة اليونسكو

المؤقتة . وهذا يعني ان اليونسكو ستدرس هذه المواقع وتقرر ما اذا كانت ستضيفها الي

قائمتها الرئيسييه ام لا .



تمارين علي الدرس الثاني

- اكمل العبارات التالية:

- 1- يقع دير سانت كاترين في محافظة
- ٢ - توجد منطقة أبو مينا في محافظة..... بالقرب من مدينة
- ٣ - تعد محمية وادي الحيتان منطقة تراث عالمي.....
- ٤ - تعد مدينة..... في مصر من أكبر المدن التراثية في العالم
- ٥ - ترجع منطقة أبو مينا الي فترة الحكم..... في مصر

ضع علامة (✓) أمام العبارة الصحيحة أو (x) أمام العبارة الخاطئة

- ١ - تسهم منظمة اليونسكو في الحفاظ علي التراث الطبيعي والثقافي بالدول
- ٢ - يعد معبد ايزيس من مناطق التراث الطبيعي
- ٣ - تعد القاهرة عاصمة سياسية وثقافية عريقة
- ٤ - ترجع منطقة أبو مينا التراثية الي فترة الحكم القبطي

بم تفسر؟

- ١ - حرص منظمة اليونسكو علي انقاذ معبد أبو سمبل من الغرق؟
- ٢ - تسجيل منطقة وادي الحيتان كمنطقة تراث عالمي طبيعي؟

- ٣- تعتبر القاهرة التاريخية من أكبر المدن التراثية في العالم؟
- ٤ - أهمية دير سانت كاترين في سيناء؟

صوب ما تحته خط

- ١ - يقع (دير الانبا بشوي) في جنوب سيناء



٢ - تم انقاذ معبدي (الاقصروالكرنك) بعد بناء السد العالي

٣ - يرجع تاريخ منطقة (وادي الريان) الي فترة الحكم الروماني في مصر

٤- يمكن أن نجد هياكل حيطان في محمية (رأس محمد)

اختر الإجابة الصحيحة مما بين القوسين :

١- من المناطق التراثية المهددة بخطر تآكل التربة.....

(أبو مينا - دير سانت كاترين - وادي الحيطان)

٢- من أقدم الأديرة وتم ادراجة علي قائمة التراث العالمي.....

(أبو مينا - دير سانت كاترين - وادي الحيطان)

٣- يقع معبد ايزيس في جزيرة.....

(فيله - غزال - شدوان - الزمالك)

٤- دير سانت كاترين في محافظة

(شمال سيناء - جنوب سيناء - القاهرة)

Social Studies For Free
MR: AHMED SABRY

لتواصل عن طريق واتس او مكالمات 01020034332

لتواصل عن طريق واتس او مكالمات 01020034332



الدرس الثالث

الاماكن السياحية والاثريه في بلدنا

هـ تتميز مصر بانها بلد سياحيه ولها تاريخ عريق اكثر منذ ٧٠٠٠ سنه

الحضارات التي مرت بالاراضي المصريه :

1- الحضاره المصريه القديمه الفرعونييه

2- الحضاره اليونانيه

3- الحضاره الرومانيه

4- الحضاره القبطيه

5- الحضاره الاسلاميه

نماذج للاماكن الاثريه في بلدنا مصر

MR: AHMED SABRY



١- مدينه شرم الشيخ

هـ تقع في جنوب سيناء

هـ تتميز بمناخها المعتدل والظواهر الطبيعيه الخلابه

هـ مثل الجبال والبحر والصافي والشعب المرجانيه

01020034332 لتواصل عن طريق واتس او مكالمة

هـ اختارتها منظمه اليونيسكو كأفضل مدينه للسلام علي مستوي العالم

٢- الاهرامات و ابو الهول

هـ بني المصري القديم الاهرامات الثلاثه علي هضبه مرتفعه في الجيزه غرب نهر النيل

لتكون بعيده عن الفيضان

هـ ذلك لانهم كانوا يعتقدون في البعث والخلود اي الحياه بعد الموت

هـ وكان يتم دفن الملك ومعهم كل متعلقاته داخل الهرم

هـ وبني الملف خوفو تمثال ابو الهول علي شكل راس انسان وجسم اسد





بم تفسر ليكون رمز للقوه وحمایه الاهرامات من السرقة

٣- مجمع الاديان



يقع في حي مصر القديمه في القاهره

يضم مجموعه من الاثار الرومانيه واليهوديه

والقبطية والاسلاميه مثل

- حصن بابليون

الذي بني في عهد الاحتلال الروماني لمصر

- والكنيسة المعلقه

هي واحده من اقدم الكنائس وسميت بالمعلقه لانها

بُنيت علي الابراج الجنوبيه من حصن بابليون

وترتفع عده امتار عن سطح الارض

- والمعبد اليهودي

في نهايه منطقه الكنائس القبطية في منطقه الفسطاط

- وجامع عمرو بن العاص

الذي بناه عمرو بن العاص في عهد الخليفه عمرو بن الخطاب

لتواصل عن طريق واتس او مكالمات 01020034332

لتواصل عن طريق واتس او مكالمات 01020034332

٤- برج القاهره

يقع في جزيره الزمالك عند نهر النيل

وهو من ابرز المعالم السياحيه الحديثه في القاهره

صُمم علي يد المهندس الراحل نعوم شبيب

علي شكل زهره اللوتس المصريه الذي تعد رمز من

رموز الحضاره المصريه القديمه





المتحف القومي للحضارة المصرية

ه يعد المتحف القومي للحضارة المصريه هو الاول من نوعه في مصر والعالم العربي

اهميته

ه يقدم نظره شامله عن الحضاره المصريه عن طريق عرض قطع اثاريه " بم تفسر"

لتساعد الزائر علي فهم الحضاره المصريه عبر العصور المختلفه من العصر المصري القديم

واليوناني والروماني والقبطي والاسلامي الي العصر الحديث والمعاصر

الموقع

ه يقع في قلب مدينه الفسطاط في القاهره

وقد تم افتتاحه في اليوم العالمي للتراث الموافق ١٨ ابريل ٢٠٢١م





تمارين علي الدرس الثالث

- أكمل العبارات التالية:

- ١ - الملك الذي شيد تمثال أبو الهول هو.....
- ٢ - بني المصريون القدماء الاهرامات الثلاث في محافظة.....
- ٣ - تم بناء الكنيسة المعلقة فوق أبراج.....
- ٤ - شيد المصريون القدماء الأهرامات لاعتقادهم في.....و.....
- ٥ - تم اختيار مدينة شرم الشيخ كأفضل مدينة للسلام من قبل منظمة.....
- ٦ - تم بناء برج القاهرة علي شكل.....
- ٧ - يوجد مجمع الأديان في محافظة.....

ضع علامة (✓) أمام العبارة الصحيحة أو (×) أمام العبارة الخاطئة

- ١ - يقع المتحف القومي للحضارة بمحافظة الجيزة
- ٢ - صمم المهندس نعوم شبيب برج القاهرة علي شكل زهرة اللوتس
- ٣ - صمم تمثال أبو الهول بجسم أسد ورأس إنسان
- ٤ - شيدت الكنيسة المعلقة علي أنقاض أحد أبراج حصن بابلون
- ٥ - بني المصريون القدماء الاهرامات شرق النيل لتكون بعيدة عن الفيضان
- ٦ - يعتبر المعبد اليهودي من المناطق الأثرية في منطقة مجمع الأديان



بم تفسر:

١- أهمية الأهرامات للمصريين القدماء ؟

٢- أهمية منطقة مصر القديمة سياحيا؟

٣- تسمية الكنيسة المعلقة بهذا الاسم ؟

٤- زيارة الكثير من السياح مدينة شرم الشيخ ؟

٥- يعد المتحف القومي للحضارة المصري الأول من نوعه في مصر والعالم العربي ؟

مالتائج المترتبة علي :

١ - اعتقاد المصريين القدماء في البحث والخلود ؟

01020034332

01020034332

لتواصل عن طريق واتس اب او مكالمة
01020034332



الدرس الرابع

السياحة واقتصاد بلدنا

يأتي السائحون الي مصر لأغراض متعددة منها : (الزنها والترفيهية والعلاج وحضور المؤتمرات

والمهرجانات)

السياحة الثقافية



ه تمثل في زيارة الأماكن التاريخية والثقافية

ه مثل أهرامات الجيزة، وشارع المعز

وخان الخليلي في القاهرة، والمتاحف، ودار الأوبرا المصرية

ه التي تقدم أفضل العروض الفنية العالمية،

ه ومكتبة الاسكندرية التي تضم العديد من الكتب والمؤلفات النادرة.

MR: AHMED SABRY

السياحة الترفيهية



ه تمثل في زيارة الأماكن الطبيعية الخلابة

ه مثل التنزه عبر نهر النيل،

ه وزيارة المدن الشاطئية

ه مثل مدينة دهب وشرم الشيخ والغردقة للتمتع بالمناظر الخلابة والشعاب المرجانية

في البحر الأحمر،

ه كذلك زيارة مدينة مرسى مطروح والعلمين على شواطئ البحر المتوسط ورحلات السفاري في

الصحاري المصرية.

السياحة العلاجية

ه تمثل في زيارة مناطق العيون الكبريتية والرمال الساخنة

للعلاج والاستجمام،

ه كما في جنوب سيناء وواحة سيوة.





سياحة المؤتمرات والمهرجانات

● وتتمثل في زيارة السياح مصر الحضور المؤتمرات أو المعارض أو المهرجانات،

● وقد استضافت مصر الكثير من المؤتمرات العالمية،

● مثل مؤتمر النقل الذكي والمؤتمر العربي للحد من مخاطر الكوارث.

● ومن أهم المعارض السنوية التي تقام في مصر

● معرض القاهرة الدولي للكتاب،

● كما تقام عدة مهرجانات



● مثل مهرجان الإسماعيلية للفنون الشعبية ومهرجان الموسيقى العربية.

أهمية السياحة:

● بلغ عدد السائحين الوافدين إلى مصر نحو ١٣ مليون سائح في عام ٢٠١٩ م،

● لذا تسهم السياحة في دعم الاقتصاد المصري؛

● حيث توفر فرص عمل للشباب

● وتعد المصدر الأول للعملة الأجنبية،

● كما أنها تسهم بنحو ١٢٪ من إجمالي الدخل القومي

(الدخل الذي تحققه الأنشطة الاقتصادية في عام واحد).

لذلك تهتم مصر بتنمية السياحة من خلال:

إنشاء وتطوير المنشآت السياحية مثل القرى السياحية والفنادق، وصيانة المناطق الأثرية

وترميمها، وتطوير وسائل النقل والمواصلات واستخدام الأساليب التكنولوجية في التسويق

السياحي، كما تدعم مصر السياحة المستدامة

لحفاظ على البيئة والموارد الطبيعية من خلال ترشيد استهلاك الطاقة والمياه في المنشآت

السياحية والتعامل الآمن مع المخلفات والاعتماد على الطاقة النظيفة، وتشارك مصر في

مبادرات دولية لحماية الشعب المرجانية والحياة البحرية.



المدونة العالمية لأخلاقيات السياحة

قامت منظمة السياحة العالمية بإصدار "المدونة العالمية لأخلاقيات السياحة"،

وتتضمن عشرة مبادئ أساسية ومنها :

- 1- تستهدف تحقيق السياحة المستدامة التي تعود بالنفع على المجتمع
- 2- تقلل من الآثار السلبية التي قد تنجم عن ممارسات غير مسؤولة تضر بالمجتمعات وتراثها،
- 3- أكدت المدونة على دور السياحة في مجال التفاهم والاحترام بين الشعوب والمجتمعات،
- 4- ضرورة مراعاة الأنشطة السياحية للمساواة بين الرجل والمرأة
- 5- حقوق ذوي الاحتياجات الخاصة والأطفال والشيوخ،
- 6- ضرورة التعاون مع الجهات الحكومية من أجل أمن وسلامة السائحين.

Social Studies For Free
MR: AHMED SABRY

لتواصل عن طريق واتس او مكالمات 01020034332

لتواصل عن طريق واتس او مكالمات 01020034332



تمارين علي الدرس الرابع

أكمل العبارات التالية:

- ١ - تعتبر مكتبة الاسكندرية من أماكن السياحة.....
- ٢ - توفر السياحة فرص..... للشباب
- ٣ - حماية الشعاب المرجانية والحياة البحرية من مهام السياحة.....
- ٤ - من أهم المعارض السنوية التي تقام في مصر معرض.....
- ٥ - تقع مدينة شرم الشيخ ودهب علي ساحل.....

ضع علامة (√) أمام العبارة الصحيحة أو (×) أمام العبارة الخاطئة

- ١ - دار الأوبرا ومكتبة الاسكندرية أماكن للسياحة الثقافية
- ٢ - يقتصر زيارة السياح الي مصر علي السياحة الترفيهية
- ٣ - زيارتك لعيون موسى في سيناء تعد سياحة ثقافية
- ٤ - يجب أن تراعي الأنشطة السياحية حقوق ذوي الاحتياجات الخاصة
- ٥ - يقتصر زيارة السياح الي مصر علي السياحة الترفيهية
- ٦ - تنتمي زيارة الأهرامات بالجيزة وشارع المعز بالقاهرة السياحة العلاجية

بم تفسر:

- ١ - أهمية السياحة لمصر؟
لتواصل عن طريق واتس او مكالمات 01020034332
- ٢ - زيارتنا لمدن شرم الشيخ والغردقة؟
- ٣ - اهتمام الدولة بتطوير المنشآت السياحية؟
- ٤ - زيارة السائحين العيون الكبريتية والرمال الساخنة؟



مالتائج المترتبة علي :

١ - استضافة مصر الكثير من المؤتمرات

.....؟

٢ - تنوع المناطق السياحية داخل مصر ؟

.....

دل علي صحة العبارة :

١ - تتعدد مناطق السياحة الثقافية في مصر ؟

.....

٢ - انتشار السياحة العلاجية في مصر ؟

.....

٣ - تسعى مصر لدعم السياحة المستدامة ؟

.....

Social Studies For Free
MR: AHMED SABRY

لتواصل عن طريق واتس او مكالمات 01020034332

لتواصل عن طريق واتس او مكالمات 01020034332



الدرس الخامس

مسؤوليتنا نحو تراث بلدنا

مقدمة

ه يجب علينا الاهتمام بشروة مصر الثقافية، والتصرف بشكل جيد في المواقع الأثرية والسياحية واتباع قواعد النظافة والأمن داخلها،

ه كما يجب عدم لمس القطع الأثرية أو الوقوف ملاصقين بها، أو تناول الطعام والشراب بجانبها.

ه وفي بعض الأماكن الأثرية لا يفضل استخدام ضوء (فلاش) الكاميرا عند التقاط الصور

لما له من تأثير سلبي على الأثر.

ه كما يجب عدم تلويث الآثار بالكتابة عليها أو خدشها أو أخذ قطعة منها إلى المنزل أو حتى

التقاط الصور غير المناسبة بجوارها.

ه كما يجب علينا أن نحسن معاملة السياح في هذه الأماكن وتقديم المساعدة لهم إذا طلبوا

المساعدة.

ه ونظرا للقيمة التاريخية والاقتصادية للمناطق الأثرية والسياحية، فإن الدولة المصرية تبذل

جهودا عدة للحفاظ عليها،

01020034332 لتواصل عن طريق واتس او مكالمات

01020034332 لتواصل عن طريق واتس او مكالمات

جهود الدولة للحفاظ علي الاثار المصرية

1- صيانة المناطق الأثرية، وترميمها،

2- إصدار قوانين تجرم الإتجار بها والاعتداء عليها

3- تنظيم عملية البحث والتنقيب عن الآثار والإشراف عليها،

4- تنفيذ عمليات ترميمها بواسطة المتخصصين،

5- التخطيط لمشروعات تطوير المناطق الأثرية، مثل مشروع تطوير مدينة القاهرة التاريخية،

التي تعد إحدى أبرز المدن التراثية القديمة على مستوى العالم.



اهداف مشروع تطوير مدينة القاهرة التاريخية

- 1- ويهدف المشروع إلى حماية وصيانة المباني الأثرية والتاريخية وقد نفذت أعمال الصيانة والترميم في منطقة الأزهر، والغورية، والدرب الأحمر،
- 2- بالإضافة إلى ترميم مسجد أحمد بن طولون، وقصر محمد علي في شبرا،
- 3- وهناك أيضا مشروعات الحفاظ على التراث العمراني، مثل مشروع تطوير شارع المعز.

خطة الدولة لتطوير منطقة الأهرامات

هـ تهدف خطة الدولة لتطوير منطقة الأهرامات إلى استرجاع الصورة التاريخية للمنطقة وتعظيم

قيمتها الأثرية، عن طريق تحويل المنطقة إلى متحف مفتوح،


هـ إقامة الفنادق، وتوفير الخدمات السياحية فيها،

هـ تطوير المنطقة المحيطة لتشمل تحسين المداخل والطرق المؤدية إليها، وإنشاء ممشى سياحي

فيها.

Social Studies
For Free

MR: AHMED SABRY



01020034332 لتواصل عن طريق واتس او مكالمات

01020034332 لتواصل عن طريق واتس او مكالمات



تمارين علي الدرس الخامس

- اكمل العبارات التالية:

- ١- يجب عدم استخدام..... الكاميرا عند التصوير لانه يؤثر سلب اعلي بعض القطع الأثرية
- ٢ - عند زيارتك للمتحف المصري يجب اتباع قواعد.....و.....
- ٣- تسعى الدولة لتحويل منطقة..... الي متحف مفتوح
- ٤ - يعتبر ترميم مسجد أحمد بن طولون احد مشروعات تطوير منطقة.....
- ٥ - قامت الدولة باصدار..... لمعاقبة تجار الآثار

ضع علامة (√) أمام العبارة الصحيحة أو (x) أمام العبارة الخاطئة

- ١ - التقاط الصور وانت ملاصق للقطع الاثريه من السلوكيات الصحيحة.
- ٢ - تعد مدينة القاهرة التاريخية من أبرز المدن التراثية علي مستوي العالم.
- ٣ - تساعد الدولة في تنظيم عملية البحث والتقيب عن الآثار.
- ٤ - تطوير طريق الكباش يعد دليلا علي جهود الدولة في الاهتمام بالمواقع الاثرية.
- ٥ - من الجيد كتابة اسمك علي جدار معبد الكرنك
- ٦ - يمكن لأي فرد أن يشارك في عملية ترميم الآثار

بم تفسر

- ١ - قيام الدولة بتطوير منطقة الأهرامات ؟



٢ - أهمية الحفاظ علي الأماكن الاثرية خلال زيارتك ؟

٣ - حرص الدولة علي تطوير مدينة القاهرة التاريخية ؟

٤ - اصدار الدولة بعض القوانين الخاصة بحماية الاثار ؟

Social Studies

صوب ما تحته خط

- ١ - يجب التقاط الصور (بفلاش) بجانب القطع الاثرية
- ٢ - تنظيم التنقيب والبحث عن الاثار يعد مسؤولية (الفرد)
- ٣ - تقوم (الجمعيات) باصدار القوانين الخاصة بحماية الاثار
- ٤ - ترميم مسجد احمد بن طولون كان ضمن مشروع تطوير (منطقة الأهرامات)

لتواصل عن طريق واتس او مكالمات 01020034332



هيات مؤثرة في المجتمع المصري

1- الجهاز المركزي للتعبئة العامة والإحصاء

ه اهتمت مصر على مدار تاريخها الطويل بالجوانب الإحصائية والبيانات والمعلومات،

ه فقد قام المصريون القدماء بعد السكان وإحصاء الموارد،

أهمية الإحصاء في تحقيق التنمية الشاملة،

ه قامت مصر بإنشاء **"الجهاز المركزي للتعبئة العامة والإحصاء"** في عام ١٩٦٤ م

الجهاز المركزي للتعبئة
العامة والإحصاء المصري



كهيئة مستقلة تابعة لرئاسة الجمهورية مباشرة،

ه للجهاز فروع علي مستوى الجمهورية.

ه يقوم الجهاز بجمع البيانات ومعالجتها وتخليتها ونشر الإحصاءات والتقارير السنوية الخاصة
بالدولة،

MR: AHMED SA

ومن أهم مسؤولياته القومية

ه إجراء التعدادات السكانية كل عشر سنوات وكان آخر تعداد عام ٢٠١٧ م،

وتقوم كافة الجهات الحكومية والخاصة بتوفير كافة البيانات والإحصاءات

التي تساعد الجهاز على إتمام مهامه القومية. **ووفقا للقانون،**

لتنقل عن طريق واتس او مكالمات 01020034332

ه لا يجوز لأي وزارة أو هيئة أو فرد في الدولة أن ينشر بيانات أو معلومات إحصائية إلا بالاستناد

إلى إحصاءات الجهاز المركزي للتعبئة العامة والإحصاء.





2- منظمة اليونسكو

هـ اليونسكو هي منظمة الأمم المتحدة للتربية والعلوم والثقافة

هـ تأسست عام ١٩٤٥ م، وتتمثل رسالتها في :

1- إرساء السلام ونبذ الكراهية والعنف من خلال التعاون الدولي في مجال التربية والعلوم والثقافة.

2- تساهم برامج اليونسكو في تحقيق أهداف التنمية المستدامة حيث تدعو كافة دول العالم إلى

توفير فرص التعليم الجيد لجميع الأفراد والقضاء علي الفقر والمساواة بين الجنسين.

جهود منظمة اليونسكو

تبذل اليونسكو عدة جهود من أجل الحفاظ علي التراث الطبيعي والثقافي

واستدامته في ١٦٧ دولة حول العالم.

انضمت مصر إلى اليونسكو في عام ١٩٤٦ م،

MR: AHMED SABRY

ولديها حتى الآن سبعة مواقع رسمية مدرجة علي قائمة اليونسكو للتراث العالمي،

سنة مواقع ثقافية وموقع طبيعي.





المحور الرابع


الوحدة الثالثة

الدرس الاول

وسائل النقل والاتصال في بلدنا

تطور وسائل النقل عبر العصور وتأثيرها في المجتمع

ه وسائل النقل تغيرت عبر الزمن. فقد استخدم المصريون القدماء الذواب في التنقل وحمل



الأشياء، مثل الحصان والحمار والجمال،

ه كما استخدموا القوارب والسفن.

MR: AHMED SABRY

ه وقد صنع أول قارب منذ نحو ٤٠٠٠ عام قبل الميلاد،

وكانت هذه السفن تستخدم في نقل الركاب والاحتفالات وكذلك في التجارة،

مثل رحلات الملك سنفرو إلى بلاد فينيقيا لطلب أخشاب الأرز،

لتواصل عن طريق وأتس او مكالمات 01020034332

ورحلات الملكة حتشبسوت إلى بلاد بونت لطلب البخور والأخشاب

وغيرها من منتجات هذه البلاد.

ه في العصر الحديث، تطورت وسائل النقل المائي

لتشمل البواخر، وناقلات النفط، والغواصات، وغيرها.

ه ثم متحف هيئة السكك الحديدية في القاهرة أنشئ عام ١٩٣٢ م.





Social Studies for free

استخدم الباركود للوصول لجروب الفيس بوك



دراسات الصف الرابع الابتدائي ترم ثاني

Social Studies For Free
MR: AHMED SABRY

01020034332 لتواصل عن طريق واتس او مكالمات

01020034332 لتواصل عن طريق واتس او مكالمات

01020034332

58



ما المقصود بالعربة الحربية



- ه هي التي يجرها الحصان
- ه دخلت إلى مصر مع غزو الهكسوس لها،
- ه ثم استخدمت العربة في أغراض عديدة، مثل السفر والصيد.
- ه أما السيارات فقد دخلت إلى مصر عام ١٨٩٠ م في عهد الخديوى توفيق،
- ه وكانت تعمل باستخدام طاقة البخار، وذلك بعد الثورة الصناعية والتي نتج عنها اختراع الماكينات،
- ه وقد تطورت صناعة السيارات عبر الزمن.

السكك الحديدية المصرية



- ه تعد أول خطوط للسكك الحديدية في إفريقيا والشرق الأوسط،
- ه والثانية عالميا بعد المملكة المتحدة،
- ه قد تم مد أول خط سكة حديد بين القاهرة والإسكندرية عام ١٨٥٦ م،
- ه ثم امتدت خطوط السكك الحديدية بعد ذلك عبر محافظات مصر من شمالها إلى جنوبها ومن شرقها إلى غربها لنقل الركاب والبضائع.

تطور الطيران

- ه حاول الانسان أن ينتقل عبر الجو، وقد كانت هناك بعض المحاولات للطيران وهي :

1- محاولة "عباس بن فرناس" الذي استخدم جناحين للطيران



كمحاكاة لحركة الطيور

- حتى نجح الأخوان رايت في الطيران الحقيقي عام ١٩٠٣ م.

2- تطورت بعد ذلك أشكال الطائرات،



- وقد تأسست في مصر شركة مصر للطيران في عام ١٩٣٢ م،
- وهي إحدى مؤسسات بنك مصر وأول شركة طيران



- تشغل خطوط جوية في الشرق الأوسط، والسابعة على مستوى العالم.

وسائل النقل وحياة الشعوب عبر العصور

- 1- وسائل النقل أثرت في حياة الشعوب والأمم عبر العصور
- 2- حيث وفرت الوقت والجهد لانتقال الأفراد والسلع من مكان إلى آخر.
- 3- وساعدت على التبادل التجاري والتواصل الحضاري بين الدول.
- 4- وبفضل العلم تطورت وسائل النقل وظهرت اكتشافات حديثة سهلت عملية السفر والتنقل.

**Social Studies
For Free**

MR: AHMED SABRY

01020034332 لتواصل عن طريق واتس او مكالمات

01020034332 لتواصل عن طريق واتس او مكالمات



تمارين علي الدرس الاول

ضع علامة (√) أمام العبارة الصحيحة أو (x) أمام العبارة الخاطئة

- ١) ساعدت وسائل النقل المختلفة علي انتشار التجارة بين الدول
- ٢) نجح عباس بن فرناس في الطيران بجناحية
- ٣) استخدم المصري القديم قدميه للتجديف قبل استخدامه للخشب
- ٤) تعد طائرة الأخوين رايت هي أول طائرة في التاريخ
- ٥) أخذ الهكسوس عن المصريين استخدام العربات الحربية
- ٦) قام البنك الأهلي بتأسيس شركة مصر للطيران
- ٧) تعد ناقلات البترول والبواخر من أبرز وسائل النقل المائي

بم تفسر

١ - أهمية الدواب عند قدماء المصريين؟

MR: AHMED SABRY

٢ - أهمية السكك الحديدية؟

لتواصل عن طريق واتس او مكالمات 01020034332

٣ - أهمية السفن والمراكب عند المصريين القدماء؟



٤ - ارسال الملكة حتشبسوت رحلات تجارية الي بلاد يونت ؟

٥ - اهمية وسائل النقل المختلفه علي المجتمع ؟

- أكمل العبارات التالية:

- ١ - تعتبر مركب الملك أشهر المراكب في مصر القديمة
- ٢ - استخدام الدواب في التنقل يعد أحد وسائل النقل
- ٣ - ظهرت السيارات في مصر بعد قيام
- ٤ - من وسائل النقل المائي الحديثة البواخر وناقلات البترول و.....
- ٥ - أول سيارة دخلت مصر كانت تعتمد علي طاقة
- ٦ - أول من حاول الطيران باستخدام أجنحه هو
للتواصل عن طريق واتس او مكالمة 01020034332
- ٧ - تعتبر مصر أول دول افريقية أنشأت
- ٨ - أرسلت الملكة حتشبسوت رحلات تجارية الي بلاد.....

مالتناج المترتبة علي :

١ - محاولة عباس بن فرناس الطيران



٢ - احتلال الهكسوس مصر بالنسبة لوسائل النقل ؟

٣ - محاولة الأخوين رايت الطيران ؟

Social Studies For Free
MR: AHMED SABRY

01020034332 لتواصل عن طريق واتس او مكالمات
01020034332 لتواصل عن طريق واتس او مكالمات



الدرس الثاني

أنواع وسائل النقل في حياتنا

ما المقصود بالنقل المستدام :

- يعني استخدام وسائل نقل صديقة للبيئة تستخدم بدورها مصادر طاقة نظيفة مثل الغاز الطبيعي والكهرباء والطاقة الشمسية،
- تهتم الدولة بتطوير وتحسين كل أنواع وسائل النقل.

1- النقل البري



- ه يشمل السكك الحديدية التي تربط بين محافظات الوجهين البحري والقبلي،
- ه تتضمن قطارات لنقل البضائع وأخرى لنقل الأفراد،
- ه ومترو الأنفاق الذي يربط بين ثلاث مدن مصرية هي (القاهرة والجيزة وشبرا الخيمة في القليوبية).
- ه وتعد مصر أول دولة عربية وإفريقية أنشأت مترو الأنفاق.
- ه كما يشمل النقل البري كافة وسائل النقل التي تسير على الطرق المرصوفة، مثل السيارات والأتوبيسات لنقل الركاب والشاحنات لنقل البضائع.
- ه وتهتم الدولة المصرية بتطوير الطرق المرصوفة وإنشاء طرق بمواصفات علمية **”للعمل علي“**

حسن التخطيط والجودة ومواجهة الظروف المناخية من أمطار وسيول وحرارة،

ه بالإضافة إلى إنشاء الكباري والمحاور **” بم تفسر ”**

لتخفيف الضغط المروري وتقليل الحوادث وتقليل المسافات، وبالتالي خفض زمن الرحلة.



2- النقل المائي

- ه يعد أرخص وسائل النقل لكنه بطيء،
- ه لذلك يستخدم في نقل البضائع كبيرة الحجم وثقيلة الوزن.
- ه وتتعدد وسائل النقل المائي،



● مثل السفن والمراكب والأتوبيسات النهرية. وينقسم النقل المائي إلى قسمين . - النقل النهري



● يستخدم في نقل المواد الخام اللازمة للصناعة،

● كذلك في نقل الركاب أو النزعات النيلية،

● النقل البحري يتم عن طريق قناة السويس، وموانئ مصر على البحر المتوسط

● مثل الإسكندرية ودمياط، وموانئ البحر الأحمر مثل الغردقة وسفاجا.

● وتهتم الدولة بتطوير تلك الموانئ "بم تفسر"

بهدف تقليل زمن انتظار السفن خارج الميناء وزيادة كمية البضائع المتداولة وزيادة مساحات

التخزين داخل الميناء،

● مما يساعد على تنشيط حركة التجارة.

3- النقل الجوي

● يستخدم في نقل الركاب والبضائع سريعة التلف،

● تميز بالسرعة والانتشار وتغطي المرتفعات والبحار،

● ولكن تكلفته مرتفعة مقارنة بالوسائل الأخرى.

● ويوجد في مصر العديد من المطارات الدولية

● مثل مطار القاهرة الدولي، ومطار برج العرب في الإسكندرية، ومطار أسوان.

جهود الدولة للتحويل نحو استخدام النقل المستدام

بم تفسر الدولة تبذل جهودا كبيرة للتوسع في استخدام وسائل النقل المستدام الآمنة والحديثة ؟

1- لخفض معدلات تلوث الهواء، 2- توفير استخدام الوقود.

● لذلك قامت بتحويل الكثير من السيارات لتعمل بالغاز الطبيعي،

3- زيادة الأتوبيسات الكهربائية والأتوبيسات التي تسير بالغاز الطبيعي،

4- كما تشجع المواطنين على استخدام وسائل النقل الجماعي "بم تفسر"

لتقليل استخدام السيارات الخاصة،

5- تسعى إلى إنهاء مشروع القطار الكهربائي السريع

لربط مدينة العين السخنة بمدينة العلمين الجديدة مرور . العاصمة الإدارية الجديدة،





والمونوريل المعلق : لربط العديد من المدن المصرية ببعضها بالإضافة إلى ربطها بمترو الأنفاق. مترو أنفاق القاهرة

هـ يعتبر الخط الأول لمترو أنفاق القاهرة هو أول خط مترو أنفاق في إفريقيا والشرق الأوسط،

هـ لتكون لمصر الريادة في استخدام هذه الوسيلة المتطورة من وسائل النقل الجماعي

هـ والتي تحقق الأمان والراحة والسرعة، علاوة على قدرتها الفائقة



في نقل أعداد كبيرة من الركاب

هـ حيث تبلغ الطاقة الاستيعابية للخط الثاني مليون راكب يوميا.

MR: AHMED SABRY

تطور وسائل النقل في مصر

هـ أنشأت الدولة المصرية العديد من الطرق الطويلة والفرعية،

هـ بالإضافة إلى الكباري الجديدة،

هـ مثل توسيع طريق مصر - السويس الصحراوي،

هـ وكوبري الشهيد أحمد المنسي على قناة السويس،

هـ وكوبري مطار العاصمة الإدارية الجديدة،

هـ وتوسيع طريق مصر - الإسكندرية الصحراوي،

هـ كما أنشأت العديد من الموانئ ومراسي السفن الجديدة

هـ مثل مشروع تطوير ميناء سفاجا،

هـ وتطوير حاجز الأمواج في ميناء بور توفيق،

هـ ورفع كفاءة الأهوسة الواقعة على الطرق الملاحية

هـ لتيسير النقل النهري في مصر.





Social Studies for free

استخدم الباركود للوصول لجروب الفيس بوك



دراسات الصف الرابع الابتدائي ترم ثاني

Social Studies For Free
MR: AHMED SABRY

01020034332 لتواصل عن طريق واتس او مكالمات

01020034332 لتواصل عن طريق واتس او مكالمات

01020034332

67

مستر احمد صبري



تمارين علي الدرس الثاني

- أكمل العبارات التالية:

١) شاركت مصر في مؤتمر النقل المستدام الذي عقد في.....

٢) تعتمد النقل المستدام علي استخدام مصادر.....

٣) تعد مصر اول دولة عربية وافريقية أنشأت.....

٤) أرخص أنواع النقل في مصر هو النقل.....

٥) يربط مترو الانفاق بين ثلاث مدن مصرية هي..... و..... و.....

٦) تهدف الدولة للانتهاء من مشروع..... لربط العين السخنة بمدينة العلمين

٧) اذا كنت من سكان العاصمة فمطار..... هو اقرب مطار اليك

٨) اذا أردنا نقل حمولة من الفوسفات فأفضل أنواع النقل هو.....

٩) من وسائل النقل المستدام..... و.....

١٠) قامت الدولة بانشاء..... و..... لتخفيف الضغط المروري في القاهرة

١١) يعتمد النقل المستدام علي استخدام مصادر.....

١٢) تنشأ الدول العديد من الكباري والماور ومنها محور..... في القاهرة .

١٣) أسرع وسائل النقل هو.....

١٤) تنتشر الموانئ علي البحر الأحمر ومنها ميناء.....

ضع علامة (✓) أمام العبارة الصحيحة أو (x) أمام العبارة الخاطئة

١ - يستخدم النقل المائي في نقل البضائع ثقيلة الوزن



٢ - يتم النقل البحري في مصر عن طريق نهر النيل

٣ - النقل المائي هو أسرع أنواع النقل في مصر

٤ - يتميز النقل الجوي بالسرعة لكن تكلفته عالية

٥ - شاركت مصر في مؤتمر النقل المستدام في بكين

٦ - يعد ميناء سفاجا من أهم موانئ البحر المتوسط

٧ - يعد ميناء الغردقة من أهم موانئ البحر الأحمر

بم تفسر:

- أهمية مترو الأنفاق ؟

٢ - أهمية النقل الجوي ؟

٣ - اهتمام الدولة بالنقل المستدام ؟

٤ - تشجيع الدولة المواطنين علي استخدام النقل الجماعي ؟



٥ - اهتمام الدولة بإنشاء الكباري والطرق ؟

٦ - السفن أفضل من الشاحنات في نقل المواد الخام الثقيلة ؟

٧ - مشاركة مصر في مؤتمر النقل المستدام ؟

Social Studies
For Free

٨ - يفضل النقل الجوي في نقل البضائع سريعة التلف ؟

MR: AHMED SABRY

دلل علي صحة العبارة

١) للنقل الجوي عيوب ومميزات

01020034332 لتواصل عن طريق واتس او مكالمات

01020034332 لتواصل عن طريق واتس او مكالمات

٢) للنقل المائي عيوب ومميزات



٣) تنوع وسائل النقل في مصر

٤) النقل المستدام يؤثر سلبا علي البيئة

Social Studies For Free
MR: AHMED SABRY

01020034332 لتواصل عن طريق واتس او مكالمات
01020034332 لتواصل عن طريق واتس او مكالمات



الدرس الثالث

قواعد وأخلاقيات استخدام وسائل النقل

اليوم العالمي للمرور :

هـ اليوم العالمي للمرور والموافق ٤ مايو من كل عام،

هـ في اليوم العالمي للمرور قام بعض ضباط الإدارة العامة للمرور

بتصميم مدينة مرورية متنقلة وتوجهوا بها إلى إحدى المدارس **”بم تفسر“**

لتدريب التلاميذ بقواعد وعلامات المرور بشكل عملي،

قواعد المرور



1- ضرورة تحرك سائق السيارة في مساره المحدد على الطريق،

2- عدم تجاوز السرعة المحددة،

3- عدم استخدام الهاتف المحمول،

أو تناول أي طعام أو شراب أثناء القيادة،

4- اتباع علامات المرور.

قواعد المشاة

1- الانتباه إلى إشارات المرور عند عبور الطريق

2- العبور من المكان المخصص لعبور المشاة،


3- استخدام كباري المشاة أو أنفاق العبور،

3- السير دائما على الرصيف المخصص للمشاة.

مجهودات الدولة لتنظيم حركة المرور

1- إصدار قانون المرور

2- وضع كاميرات على الطرق وملصقات إلكترونية جديدة على كل سيارة، **”بم تفسر“**





لمعرفة مدى الالتزام بقواعد المرور وحصر أماكن الكثافات المرورية والتعامل معها.

العلامات المرورية

1- علامات إرشادية



• وهي توضح معالم الطريق للسائق

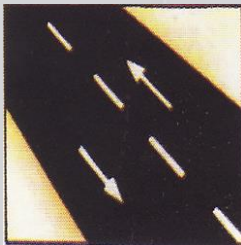
• مثل وجود مركز إسعاف أو مطعم أو محطة وقود.

2- علامات أرضية

• وهي خطوط مرسومة على الأرض

• توضح مسار تحرك السيارة على الطريق

• مثل الخط الأصفر المتصل الذي يفصل حركة مرور السيارات في الاتجاهين المتضادين.



3- علامات إلزامية

• وهي تشير إلى الاتجاه الإلزامي

• الذي يجب أن تسير فيه السيارة

• أو الطريق الإجباري لسير المشاة أو الدراجات أو الحيوانات.




4- علامات ضوئية

• وهي تنقسم إلى علامات ضوئية دائرية تضيء باللون

• "الأحمر أو الأصفر أو الأخضر"

• لتنظيم حركة مرور السيارات،

• وعلامات ضوئية على شكل إنسان تضيء باللون "الأحمر أو الأخضر"





٥ لتنظيم عبور المشاة.

5- علامات تحذيرية

٥ وهي تحذر من المخاطر المحتملة،

٥ مثل منطقة عمل أو منطقة زراعية

٥ أو وجود منحدر.



6- علامات المنع

وهي تشير إلى السلوكيات التي يجب تجنبها أثناء القيادة، مثل

عدم استخدام آلة التنبيه أو ممنوع الانتظار.

آداب استخدام وسائل النقل

- يجب علينا ضرورة الالتزام ببعض الآداب أثناء استخدام وسائل النقل، مثل :

1- عدم استخدام المقاعد المخصصة لكبار السن أو المرضى أو النساء الحوامل وذوي الاحتياجات

2- عدم جلوس الأطفال في المقاعد الأمامية للسيارة أو إخراج أجسادهم من النوافذ،

لتواصل عن طريق واتس او مكالمات 01020034332

3- عدم الكتابة على وسائل النقل، كالمات 01020034332

4- عدم إلقاء الحجارة على القطارات أثناء سيرها لأن ذلك يسبب أضراراً للقطار والركاب،

5- إفساح الطريق لسيارة الإسعاف.

٥ كل هذا يحافظ على أرواح الناس، ويقلل من الحوادث .



تمارين علي الدرس الثالث

١ - أكمل العبارات التالية:

- ١ - يجب عدم جلوس..... في المقاعد الامامية للسيارة
- ٢ - يجب عدم التحدث في..... أثناء القيادة
- ٣ - يجب علينا عدم الجلوس في المقاعد المخصصة لكبار السن و..... و.....
- ٤ - اذا رأيت العلامة المرورية فعليك علي عدم استخدام.....

٥- يجب تهدئة السرعة عند رؤية العلامة المرورية بسبب وجود.....

٦ - اذا رأيت العلامة المرورية على الطريق فهذا يعني وجود.....

بم تفسر

١ - أهمية وجود كاميرات مراقبة علي الطريق ؟

٢ - اصدار قانون المرور ؟

٣ - يجب عدم تناول الطعام والشراب أثناء القيادة ؟

٤ - يجب عليك استخدام الكباري او الانفاق اثناء عبور الطريق ؟

٥ - أهمية وجود العلامات المرورية الارشادية علي الطريق

ضع علامة (√) أمام العبارة الصحيحة أو (x) أمام العبارة الخاطئة

١) يجب علينا افساح الطريق أمام سيارات الاسعاف



٢) قيام بعض الأشخاص بالكتابة علي مقاعد المترو يعد تصرف صحيحا

٣) يجب عليك الانتظار في هذا المكان اذا رأيت العلامة

٤) اذا أردت الوصول الي المستشفى فانك ستبحث عن

Social Studies
For Free

MR: AHMED SABRY

العلامة من العلامات الإرشادية

٥) تعد هذه العلامه من العلامات الإرشادية

01020034332 لتواصل عن طريق واتس او مكالمات

01020034332 لتواصل عن طريق واتس او مكالمات



الدرس الرابع

تطور وسائل الاتصالات وتأثيرها في المجتمع

ه حرص الإنسان منذ القدم على التواصل مع الآخرين، وقد تطور الوسائل كالتالي:

تطور وسائل الاتصالات

1- عصور ما قبل التاريخ (أي قبل معرفة الإنسان للكتابة)

ه الدخان والأصوات العالية وقرع الطبول



لإرسال الإشارات للآخرين بهدف تحذيرهم من خطر ما أو الإعلان عن مكانه.

2- العصور التاريخية

تطورت وسائل الاتصال بين البشر واتخذت أشكالاً مختلفة عبر التاريخ، وبدأ الإنسان المصري

1- بكتابة الرسائل علي ورق البردي وإرسالها مع أشخاص إلى البلاد المختلفة،

2- الحمام الزاجل لإرسال الرسائل لأنه أسرع

3- ثم عرف البريد، وأصدرت مصر أول طوابعها البريدية عام ١٨٦٦ م،

3- العصر الحديث

ه قد لعبت الاختراعات المهمة في مجال الاتصالات في القرنين التاسع عشر والعشرين



دورا مهما في تطور العالم وتغييره: مثل 01020034332

لتواصل عن طريق واتس او مكالمة 01020034332

ه اختراع التلغراف والهاتف،



وكان أول خط هاتفي في مصر عام ١٨٨١ م بين القاهرة والإسكندرية.

ه وتغير شكل الهاتف وحجمه عبر الزمن حتى وصل إلى شكله الحالي،

ه وكذلك اختراع الإنسان لشبكة الإنترنت جعل من العالم قرية صغيرة،



ه حيث أصبح التواصل أسهل وأسرع بين البشر في كل دول العالم عبر التطبيقات المختلفة.



فوائد الانترنت

- 1- جعل من العالم قرية صغيرة،
- 2- أصبح التواصل أسهل وأسرع بين البشر في كل دول العالم عبر التطبيقات المختلف
- 3- سرعة الحصول على المعلومات،
- 4- التواصل مع الزملاء والمعلمين لمناقشة الموضوعات العلمية والدراسية،
- 5- البحث عن فرص عمل مناسبة،
- 6- العمل عن بعد في مجالات متعددة مثل التسويق الإلكتروني وغيره من الوظائف.
- 7- وفرت شبكة الإنترنت العديد من أنواع الترفيه والتسلية، مثل الألعاب الإلكترونية أو الزيارات الافتراضية لبعض المواقع السياحية والأثرية حول العالم.

جهود الحكومة لتطوير وسائل الاتصالات

- تبذل المؤسسات الحكومية المصرية جهودا كبيرة من أجل التحول الرقمي في مختلف هيئات ومؤسسات الدولة، وذلك بتوفير الخدمات الإلكترونية للمواطنين مثل :
- 1- استخراج الأوراق الرسمية كشهادة الميلاد والرقم القومي وجواز السفر من خلال موقع بوابة مصر الرقمية،
 - 2- مكافحة الجرائم الإلكترونية من خلال وزارة الداخلية،
- لتواصل عن طريق واتس او مكالمات 01020034332



السلبيات التي يجب عليك تجنبها في الانترنت

- 1- إهدار كثير من الوقت على شبكات التواصل الاجتماعي مما يؤثر على دراستك، ويؤدي إلى :
 ه إهمال ممارسة الهوايات للمفيدة، ه التباعد بينك وبين أفراد أسرتك.
- 2- توجد معلومات غير صحيحة على شبكة الإنترنت، لذلك يجب أن تتأكد من صحة المعلومات قبل نشرها.
- 3- مشاركة أشخاصا لا نعرفهم معلوماتنا وصورنا الشخصية، أو حساباتنا البنكية والشخصية

على وسائل التواصل

تأثير التطور العلمي على المجتمع

أصبح العصر الحالي أكثر تطورا وأكثر رفاهية بفضل العلم والتقدم السريع في وسائل الاتصال؛ وقد ظهر ذلك ف جوانب متعددة من حياة الناس اليومية، مثل :



1- **التعليم** : حيث تم تصميم المنصات التعليمية المخصصة

لتعلم عن بعد، مثل منصة بنك المعرفة المصري

2- **الصحة** : حيث تم تصميم موقع إلكتروني

لتسجيل المواطنين بياناتهم لتلقي اللقاح للوقاية من فيروس كورونا.

3- **أصحاب الهمم** : ساهم التقدم العلمي أيضا في تيسير حياة حيث ابتكرت تطبيقات عديدة

لمواكبة احتياجاتهم، منها تطبيقات على الهاتف المحمول وأجهزة الكمبيوتر بأنواعها لمساعدة

الصم والمكفوفين على استخدام التكنولوجيا الحديثة.

كما أصبح في إمكان أصحاب الهمم العمل في وظائف كان يصعب عليهم تأديتها من قبل. على

سبيل المثال، يتولى أشخاص من أصحاب الهمم، الذين يواجهون صعوبة في مغادرة منازلهم

بسبب إعاقات جسدية، إدارة مطعم في اليابان، وأهم ما يميز هذا المطعم أن من يقدم الطلبات

للزبائن روبوتات يتحكم فيها أصحاب الهمم عن بعد عبر الإنترنت.



تمارين علي الدرس الرابع

١ - أكمل العبارات التالية:

- ١) استخدم الانسان قرع الطبول للتواصل مع الآخرين في.....
- ٢) بدأت..... بمعرفة الانسان الكتابة
- ٣) يمكنك التقديم لتلقي لقاح فيروس كورونا من خلال موقع.....
- ٤) استخدم الانسان..... في العصر الحديث قبل اختراع الهاتف
- ٥) استخدم الانسان قديما ورق..... للكتابة عليه
- ٦) يمكنك متابعة دروسك عبر منصة.....

٧) قديما كان يتم الاعتماد علي اشخاص في توصيل ارسائل
ثم أصبحنا نعتمد علي..... لأنها اسرع

٨) اذا أردت استخراج شهادة ميلاد الكترونية يمكنك استخراجها من خلال موقع.....

- ضع علامة (✓) أمام العبارة الصحيحة أو (x) أمام العبارة الخاطئة

- ١) تم اختراع التليغراف قبل الهاتف
- ٢) كان أول خط هاتف في مصر يصل بين القاهرة والسويس
- ٣) لعب التقدم العلمي دورا في تطور وسائل الاتصال عبر الزمن
- ٤) قديما كان جدي يمكنه التواصل عبر شبكة الانترنت مع اصدقائه خارج مصر
- ٥) ساعد التطور التكنولوجي علي سهولة قيام أصحاب الهمم بوظائف مختلفة
- ٦) قام الانسان بالندء بأصوات عالية لتحذير الآخرين من الخطر
- ٧) تم الاعتماد علي التليغراف في التواصل قبل اشارات الدخان
- ٨) أنشأت وزارة التربية والتعليم منصة الكترونية لتلقي طلبات لقاح فيروس كورونا



بم تفسر:

١ - أثر التطور العلمي ايجابيا علي حياة أصحاب الهمم

٢ - تطور وسائل الاتصال له العديد من السلبيات

٣ - استخدام الحمام الزاجل في ارسال الرسائل

٤ - لشبكة الانترنت فوائد عديدة

Social Studies For Free

MR: AHMED SABRY

01020034332 لتواصل عن طريق واتس او مكالمات

01020034332 لتواصل عن طريق واتس او مكالمات



شخصيات مصرية مؤثرة



الملك خوفو

هو أحد ملوك الأسرة الرابعة.

تولى عرش مصر بعد الملك سنفرؤ.

انجازاته

1- هو صاحب الهرم الأكبر (هرم خوفو) الموجود في محافظة الجيزة

2- بني الهرم ليكون مقبرة له، واستغرق بناؤه حوالي ٢٠ عاما.

3- يعد بناء الهرم أكبر نقلة حضارية في تاريخ مصر

4- شاهدها على عظمة المصريين القدماء لما يمتاز به من إتقان في هندسته ودقة في تخطيطه،

المراكب

قد عثر عند منطقة الأهرامات على خمسة مراكب للملك خوفو، حيث نقل المراكب الأول إلى

المتحف المصري الكبير،

التجارة في عهده

نشطت التجارة في عهد الملك خوفو الذي أرسل بعثات إلى سينا

بهدف الحصول على الفيروز والنحاس،

لتواصل عن طريق واتس او مكالمات

وقد ترك خوفو اسمه منقوشا في هذه المناجم.





الملكة حتشبسوت



• من أشهر ملكات مصر في عصر الدولة الحديثة.

• لقت بالزوجة الملكية العظيمة وسيدة كل الأراضي،

الانجازات

1- حكمت مصر مدة تزيد عن عشرين عاماً.

2- قد تميز عهدها بالاستقرار والازدهار الاقتصادي،

3- عادت فتح الحاجر والمناجم التي أهملت لفترة طويلة وبخاصة في شبه جزيرة سيناء،

4- أرسلت الرحلات البحرية للتجارة مع الدول المجاورة، مثل البعثة التجارية إلى بلاد بونت

(الصومال حالياً) على متن سفن كبيرة محملة بالهدايا والبضائع المصرية مثل البردى والكثان،

واستقبل ملك بلاد بونت البعثة استقبالاً جيداً، ثم أعادت محملة بكميات كبيرة من

الحيوانات المفترسة والأخشاب والبخور والأبنوس والعاج والجلود والأحجار الكريمة.

5- قد اهتمت الملكة حتشبسوت بإصلاح أوضاع البلاد الداخلية وتنظيم مجاري المياه والزراعة،

6- من أهم إسهاماتها في مجال العمارة إنشاء معبد حتشبسوت

الذي اشتهر بمعبد الدير البحري في الأقصر.

01020034332 لتواصل عن طريق واتس او مكالمات

01020034332 لتواصل عن طريق واتس او مكالمات